

Шифр 8-84

максимальное количество баллов- 100

время выполнения: 90 мин

680

## ИСТОРИЯ

8 класс

**Задание 1.** Укажите пропущенный в ряду год заключения договора Руси с другим государством. За выбор верного ответа – 3 балла.

907, 911, 944, ..., 1043

1. 947
2. 966
3. 971
4. 1013
5. 1036

35  
Ответ: 3 +

### Задание 2

Выберите термины, которые относятся к тому же виду искусства, что и представленный на иллюстрации предмет. За каждый правильный ответ – 2 балла. Если выбрано больше 4 утверждений, то 0 баллов. Максимум за задание – 6 баллов.



1. Чернь
2. Зернь
3. Закомары
4. Бердыш
5. Скандь
6. Гобелен

45  
Ответ: 256

**Задание 3.** За каждый правильный ответ – 2 балла. Если выбрано больше 4 утверждений, то 0 баллов. Максимум за задание – 6 баллов.

Выберите из приведённого списка события зарубежной истории, которые произошли в той же половине века, что и описанное в тексте событие.

После победы Александровой, когда победил он короля, на третий год, в зимнее время, пошёл он с великой силой на землю псковскую, ибо уже был взят немцами город Псков. И пришли немцы к Чудскому озеру, и встретил их Александр, и изготовился к бою, и пошли они друг против

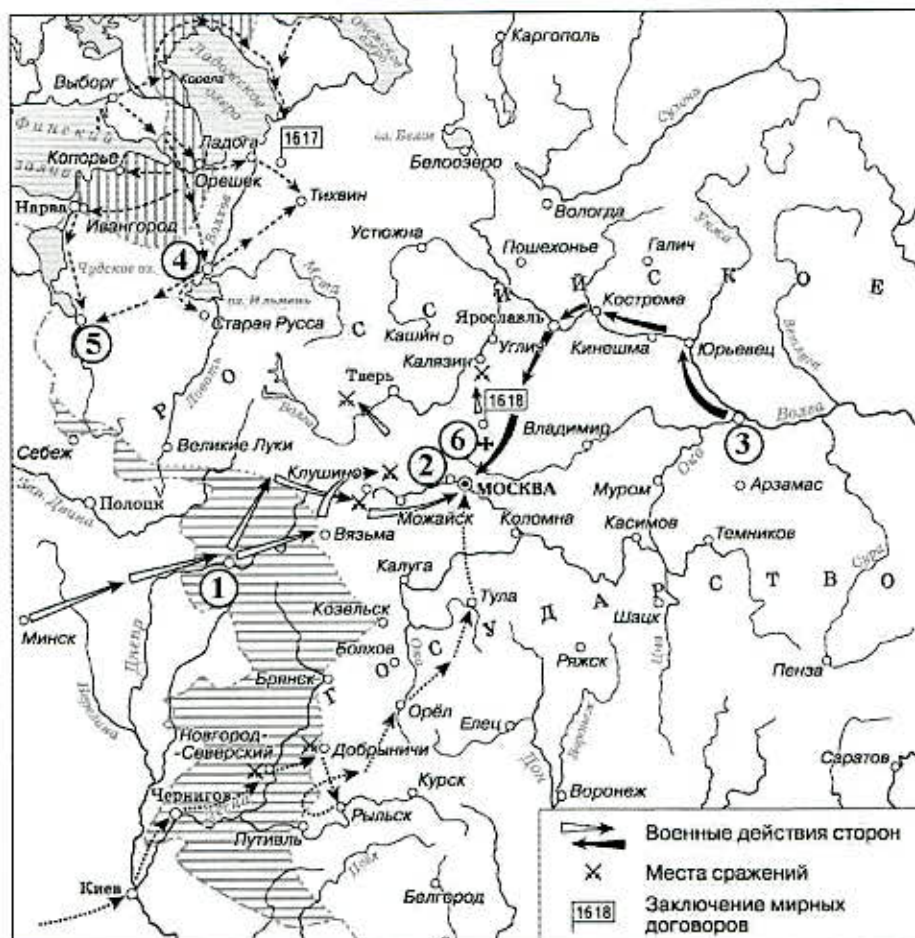
друга, и покрылось озеро Чудское множеством тех и других воинов. Отец Александра, Ярослав, прислал ему на помощь младшего брата Андрея с большою дружиною. Да и у князя Александра было много храбрых воинов, как в древности у Давида-царя, сильных и стойких...

1. восстановление Византийской империи
2. издание Великой хартии вольностей
3. образование Францисканского ордена
4. битва на Косовом поле
5. Жакерия
6. Пятый крестовый поход

Ответ: 246

#### Задания 4-6

Внимательно рассмотрите схему и выполните задания.



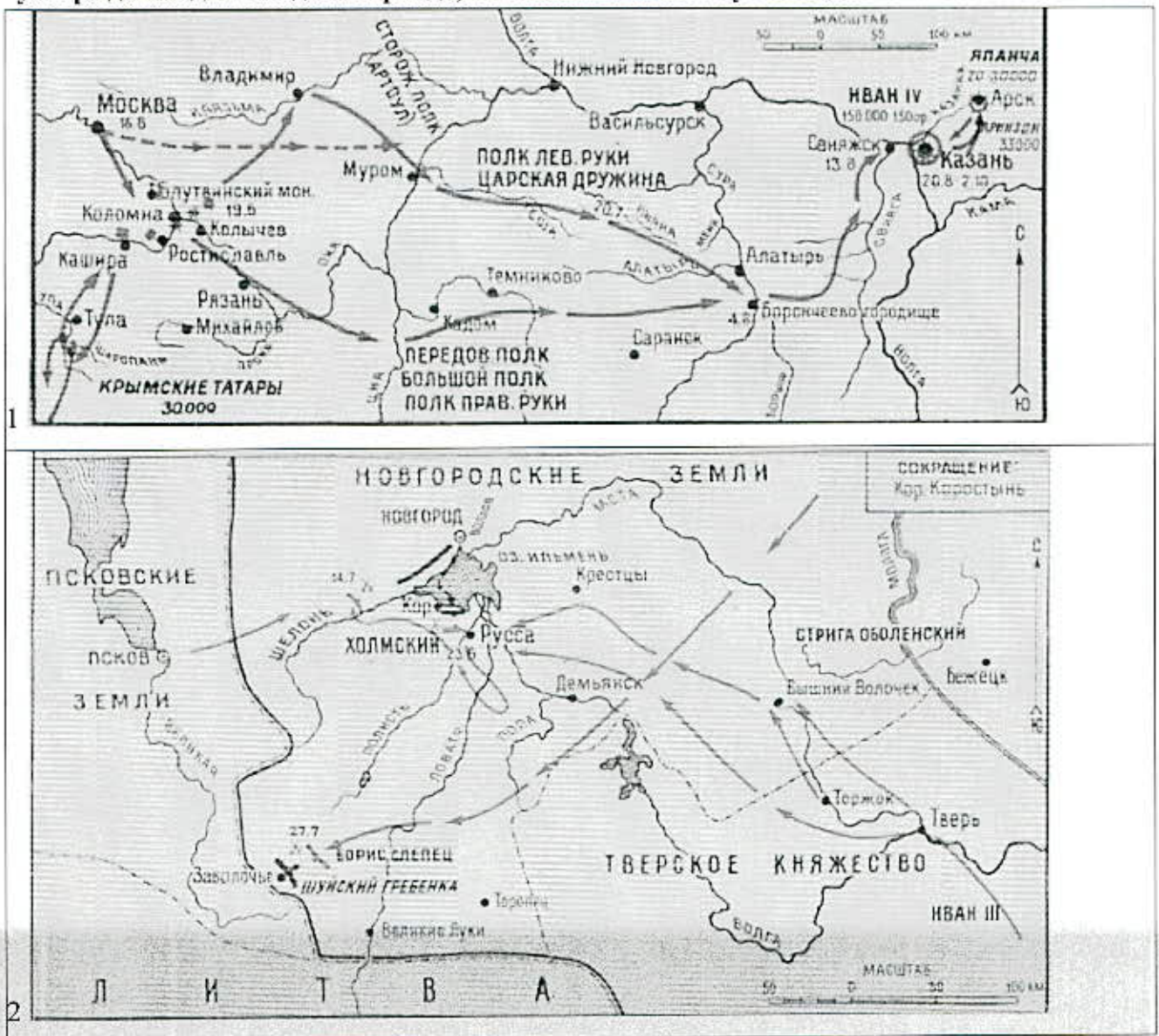
4. Выберите верные утверждения. За каждый правильный ответ – 2 балла. Если выбрано больше 7 утверждений, то 0 баллов. Максимум за задание – 10 баллов.

1. Во время событий, обозначенных на схеме, шведскими войсками был захвачен город Галич.
2. Цифрой 3 на схеме обозначен город, где было сформировано Второе народное ополчение.
3. Стрелками на схеме обозначен поход Ивана Болотникова на Москву.
4. Современником событий, которым посвящена схема, был Сигизмунд III Ваза.
5. События, которые отражены на схеме, закончились подписанием Ям-Запольского мира.

6. На схеме обозначено место сражения, в котором войска Лжедмитрия I потерпели поражение от царского войска.
7. Цифрой 6 на схеме обозначен монастырь, в котором от польско-шведских интервентов укрывались Михаил Фёдорович Романов с матерью.
8. Горизонтальной штриховкой на схеме обозначены районы, которые были охвачены восстанием Хлопка Косолапа.
9. Цифрой 1 на схеме обозначен город, который был возвращён в состав России по условиям Андрусовского перемирия.
10. Все события, обозначенные на схеме, произошли до возвращения Филарета из польского плена.

46  
 Ответ: 3 2 5 8 10

5. Вам предстоит сопоставить, когда происходили события на схеме и на изображениях 1 - 9. Рассмотрите их. За каждый правильный выбор – 2 балла. Если выбрано больше 5 утверждений для каждого периода, то 0 баллов. Максимум за задание – 14 баллов.







7



8



9

Выберите из представленных схем и картин те, на которых отражены события, произошедшие:

- А) на век раньше событий, отображённых на схеме
- Б) на два века раньше событий, отображённых на схеме
- В) в том же веке, что и события, отображённые на схеме

Обратите внимание на то, что среди изображений есть лишние.

Ответ:

А	Б	В
478	638	957

6. Прочитайте отрывки из исторических источников. Выберите те из них, которые имеют непосредственное отношение к походам, отображённым на схеме. За каждый правильный ответ – 4 балла. Если выбрано больше 4 утверждений, то 0 баллов. Максимум за задание – 8 баллов.

А. Русская земля зело опечалися и бысть же тогда великое уныние и мятеж во всей земли Рустей, понеже велицей злобе Христианскому народу належащи прещения ради неверных. Воздвигает бо некоего христианска народа мужа от рода не неславна, помыслом мудра, его же прозванием нарицаху Косма Минин; сей случаю чина чреды своя, бысть начальник в то время судных дел во братци своей, рекше посадских людей в Нижнем Новгороде.

Б. И сыскано в Розряде. В боярской книге написано: князю Григорью княж Петрову сыну Борятинскому помесной оклад 400 чети, денег из чети 6 рублёв. А у выписки князь Григорей Борятинский сказал. При царе Василье послан отец ево в Колугу приводить колужан всяких людей после ростриги х крестному целованью, а он был с отцом. И как колужане заворовали,

царю Василью изменили, а пришел в Колугу Ивашка Болотников и отца его велел, повеся за ноги, рострелять ис пищалей, а ево де, князя Григорья, велел посадить в тюрьму.

В. Димитрий, возвратившись из Путивля, почёл за лучшее выступить в поле и дать сражение, дабы видели его продвижение вперёд, ибо страна так велика, что не везде слышали об его завоеваниях. Сверх того он довольно был уверен, что жители завоёванных им местностей будут некоторое время держать его сторону, ибо они были ожесточены против приверженцев Бориса, поэтому, собрав всё войско, он двинулся и стал в трёх милях от московского лагеря, у Добрынич, и здесь его воины, уверенные в победе, бражничали, и 20 января ночью снялись с лагеря всем войском, среди них был сам Димитрий, князь Василий Масальский и дьяк Богдан Сутопов, перебежавший к Димитрию, также все польские паны и дворяне, всегда находившиеся при нём.

Г. Пришли к царю Борису из Литвы великие послы Лев Сапега с товарищами [просить] о мирном постановлении. Царь же Борис им воздал великую честь, и ездили на переговоры многое время, и едва условились о мирном договоре, и взяли перемирие на двадцать лет. После же заключения мира [послы] были у стола государева, и государь их пожаловал своим государевым великим жалованием и отпустил их к Жижиманту королю польскому.

Д. Архиепископ же Феодорит и боярин Фёдор Иванович Шереметев и все люди пошли в соборную церковь Пречистой Богородицы и служили молебны, и взяли честные кресты и местный чудотворный образ Пречистой Богородицы Фёдоровской и многие иконы, и пошли в Ипатцкий монастырь и служили молебны у Живоначальной Троицы, и пришли к нему, государю, и к матери его, великой государыне старице Марфе Ивановне, и пали все на землю: не только что плакали, но и вопль был великий. И молили его, государя, чтобы шёл на свой царский престол, на Московское государство.

Е. Люди же Московского государства, видя такой гнев Божий на себя, единодушно все замыслили, как бы против него, окаянного, сотворить [заговор], чтобы православная вера до конца разорена не была. Против него же. Расстриги, больше всех выступал тот же князь с братьями. За него [Расстригу] стояли советники его, Пётр Басманов с немцами и с стрельцами московскими. Они же, призвав Бога в помощь, пошли на врага. Он же [Расстрига], видя то, выбросился из палаты в окно, стрельцы же его подхватили и привели опять в палату, и бились за него. Начали же стрельцы боярам говорить: «Идём к царице, допросим её; и если будет, [что он] истинный сын её, мы все помрём за него, а если скажет, что не истинный, то в нём Бог волен».

Ответ: **А В +**

#### Задание 7.

Рассмотрите представленные фотографии. Выберите те, которые посвящены событиям Великой Отечественной войны. За каждый правильный ответ – 2 балла. Если выбрано больше 7 утверждений, то 0 баллов. Максимум за задание – 10 баллов.



1.



2.



100  
Ответ: 235870 +

**Задание 8**

Определите пропущенные в таблице отрывки из мирных договоров России с иностранными державами, их названия, годы, когда они были заключены, и события из всеобщей истории, произошедшие в том же десятилетии. **За выбор каждого верного ответа – 2 балл. Максимум за задание 14 – 16 баллов.**

Обратите внимание на то, что среди предлагаемых вставок есть лишние.

Отрывок из мирного договора	Мирный договор	Год	Событие из всемирной истории (в то же десятилетие)
А	Б	1721	Отречение Филиппа V Испанского от престола
Когда же Воеводы с обеих сторон назначат рубежи, как они были в старину, то замок Корельскийт (Кексгольмский) со всеми землями, которыя ему подлежали в то время, когда их получил наш	В	Г	Издание Нантского эдикта

Великомощный Государь и Король Иоанн, должен быть передан Великаго Царя Воеводам которые будут посланы в Корелу (Кексгольм), тотчас без всякой хитрости, со всем нарядом, находящимся в Кореле (Кексгольме), и который должен перейти во власть Великаго Государя, Царя и Великаго Князя Феодора Иоанновича			
Д	Столбовский мир	1617	Е



<p>Г. Река именем Горбица, которая впадает, идучи вниз, в реку Шилку с левые стороны, близ реки Чёрной, рубеж между обоими Государствами поставить. Также от вершины той реки Каменными Горами, которые начинаются от той вершины реки, и по самым тех гор вершинам, даже до моря протяженными, обоих Государств державу тако разделить, яко всем рекам малым или великим, которые с полдневные стороны сих Гор впадают в реку Амур, были под владением Хинского Государства, также всем рекам, которые с другие стороны тех Гор идут, – тем были под державою Царского Величества Российского Государства.</p>	<p>Нерчинский договор</p>	<p>Ж</p>	<p>З</p>
---	---------------------------	----------	----------

Варианты для вставки

Вставки для А, Д	Вставки для Б, В	Вставки для Г, Ж.	Вставки для Е, З.
<p>4. Его королевское величество шведское уступает сим за себя и своих потомков и наследников шведского престола и королевство Шведское его царскому величеству и его потомкам и наследникам Российского Государства в</p>	<p>Ништадский мир</p>	<p>1595</p>	<p>Пражская дефестрация</p>

<p>совершенное непрекословное вечное владение и собственность всей войпе, чрез его царского величества оружия от короны свейской завоёванные провинции: Лифляндию, Эстляндию, Ингерманландию... с городами и крепостями... и всеми прочими к упомянутым провинциям надлежащими городами, крепостями, гаванями, местами, дистриктами, берегами...</p>			
<p>3. Такжеде уговорили и постановили смы, что всем городам и землям, в прошедшею войну от Короны Польской и Великаго Княжесва Литовскаго завоёванным, то есть Смоленск с городами и с уездами, которые от сего краю, от Витебскаго, от Полоцкаго и от Лютинскаго уездов к Смоленску належат, Дорогобужу, Белой, Красному с своими местами и с уездами и принадлежностями, как оныя обретаются до сего времени, по перемирному договору, быть в стороне Их Царскаго Величества, а с другаго краю Рославлю и где суть Северские города, Чернигову, Стародубу, Новугородску-Северскому, Почепу и иным, также и всей Малой России сея стороны Днепра городом Нежину, Переяславлю, Батурину, Полтаве, Переволочне и всем, того Малороссийскаго краю, городам и землям и местам, какими ни есть прозвищи и урочищи названные, со всеми своими уездами, сёлами и деревнями и в них живущими всяких чинов людьми и принадлежностями, как они по се</p>	<p>Тявзинский мир</p>	<p>1582</p>	<p>Славная революция в Англии</p>

время по перемирному договору в стороне Их Царского Величества обретались, так и ныне оставатися имеют в стороне Их Царского Величества на вечныя времена;			
Тако ж Велеможный Государь, Король Густав Адольф Свейский, свою мир добрую подвижность к Великому Государю, Царю и Великому Князю всея России Самодержцу, объявил тако, что Велеможный Государь Король Густав Адольф Свейский, Его Королевское Величество, за себя и за своих наследников сего мирнаго постановления крепостью отдал и очистил Российскаго Царствия города и посады, которые вблизи прошлых летех пойманы, имянно: Великий Новгород, Старую Русу, Порхов, Ладогу и Гдов, с их уезды...	Полянковский мир	1689	Издание 95 тезисов Мартина Лютера

Ответ:

А	<del>2</del>
Б	НИШТАДСКИЙ МИР +
В	<del>ПОЛЯНСКИЙ МИР</del>
Г	<del>1689</del>
Д	3 +
Е	ПРАЖСКАЯ ДЕФЕНЕСТРАЦИЯ +
Ж	<del>1595</del>
З	<del>ИЗДАНИЕ 95 ТЕЗИСОВ МАРТИНА ЛЮТЕРА</del>

**Задание 9. За каждый правильный ответ – 3 балла. Если для каждого фрагмента выбрано больше 3 характеристик, то 0 баллов. Максимум за задание – 27 баллов.**

Установите соответствие между фрагментами исторических источников и их краткими характеристиками: к каждому фрагменту, обозначенному буквой, подберите по три соответствующие характеристики.

Обратите внимание на то, что среди приведённых характеристик есть лишние.

**А.** И видя царь, что в денгах почало быть воровство великое и много кровопролития учинилося, а те медные денги год от году подешевели, сперва ходили рубль против рубля, а потом почали ходить по 2 и по 3 и по 4... медных денег за серебряной рубль, а с торговых людей и с крестьян десятую и пятую денгу имали в казну серебряными денгами, а ратным людям давали жалованье медными денгами, против того как преж сего давано серебряными, и в государстве серебряными денгами учала быть скудость, а на медные было всё дорого и многие помирали з голоду: и умысля царь, чтоб ещё чего меж людьми о денгах не учинилося, велел те медные денги отставить и не торговать, и приписать те медные денги в свою царскую казну, на Москве и в городех, и за рубль медных денег положено было платить серебряными по 10 денег. А кто медных денег не похочет давать в царскую казну, и тем денги велено сливать и переделывать в котлы и во что кто хочет; а кто учнёт те медные денги держати денгами и им учинен был заказ под смертною казною, потому чтоб тех денег не посеребривали и не белили и с серебряными денгами не мешали. Да от того ж смутного времени, как приходили воровские люди к царю и учинилася смута и кроворозлитие, царица от великого страху испужався лежала в болезни болши году.

**Б.** Случаем этим воспользовался народ, чтобы подать его царскому величеству некие прошения по поводу невыносимо громадных податей и налогов, которыми в течение нескольких лет он был обременён, вследствие чего народ с жёнами и детьми впал в разорение. Бояре, окружавшие его царское величество, приняли эти прошения и не только разорвали их на клочки, но ещё бросили эти клочки в лицо просителям, над которыми издевались и которых холопы или рабы их жестоко избили, и весьма многих посадили в заключение. Народ был взбешён против бояр и по окончании процессии толпою явился на царский двор... и затем, после обеда, и народ, и стрельцы ворвались в дом Бориса Ивановича Морозова, главного после его царского величества правителя всей России, который прошлою зимою женился на сестре ныне здравствующей царицы. Дом этот был ими в конец ограблен. После этого, разделив между собою остальную добычу, они приступили было к разрушению самого дома Морозова. Тогда его царское величество прислал им сказать, что дом этот принадлежит ему. Услыхав это, бунтовщики немедленно покинули его, умертвив трёх самых главных служителей. Из дома Морозова толпа бешено повалила к дому Назара Ивановича Чистова, которого дом они тоже совсем разграбили... так как сам канцлер был болен и находился в это время в бане. Когда он из бани возвращался домой, бунтовщики, встретив его, избили дубинами и топорами. Первый, ударивший его топором по голове, закричал ему при этом: «Изменник, это тебе за соль», – ибо именно он наложил большую подать на соль.

**В.** И между тем Воевода Астраханский, видя у атамана многая богатства и драгия вещи, овогда ласканием а иногда и грозою от него получал, что уже тому было и небезобидно. Уже он часто ему упоминал, чтоб он сво вскоре отправлял в Москву, но Воевода той, завидуя богатствам его, день от дни продолжал его отправление. И некогда тому Воеводе

ВСЕРОССИЙСКАЯ ОЛИМПИАДА ШКОЛЬНИКОВ (ШКОЛЬНЫЙ ЭТАП)  
2023-2024 УЧЕБНЫЙ ГОД

случился быть на судне при весёлом подпитии; той в то время имел на себе богатую шубу дорогих соболей, также покрытую дорогою персидскою парчею, которая Воеводе зело понравилась, начать её просити, но атаман ему на то досадно отвеща, понося его лакомство. Но Воевода ему тако сказал: когда ему той шубы не подарит, то он знает что с ним сотворит, может он Воевода добро и зло ему устроить. И тако той хотя и нехотя, но якобы принуждён ту шубу ему отдать; сие видевше прочие казаки досадствующе скрежетаху зубы своя на Воеводу. Тогда собрав своих казаков на своё судно, великую им жалобу принёс на Воеводу того; казаки же и сами то видевше всё и так зело тому дивилися, что атаман пред Воеводою поступил; и на ево жалобу все яростно на Воеводу ожесточившася, воссташа вси единогласно, вопияху, да отмстим невежество и нахалы, и учинённую обиду атамана нашего да заплатим ему. Потekoша вси во град ко двору воеводскому, хотяху того убити; собирахся их многия тысячи поидоша вверх по реке Волге в Россию, пленяюще грады, сёла и деревни разоряюще; не покоряющихся же тому всех побиваху. И тако той поиде с тем намерением, чтоб ему притти во град в Москву, и всех князей и бояр и знатных людей и всё шляхетство российское побить, искоренить всякое чиновачалие и власть, и учинить то, чтоб всяк всякому был равен. И на то писал писменные листы, и послал наперёд себя по городам, сёлам и деревням, возвещая то своё злое намерение.

1. Основной причиной восстания, согласно тексту, является изменение размеров налогов на отдельные категории продукции.
2. В тексте упоминается шантаж в отношении одного из деятелей восстания.
3. События, описанные в тексте, оказали глубокое эмоциональное воздействие на царскую семью.
4. Согласно приведённому тексту, несмотря на бунт, население в основном следовало царским указаниям.
5. В тексте упоминаются небесные знамения, указывавшие на близость горя.
6. В тексте упоминается категория населения, состоявшая из выборных «по прибору» и являвшаяся первым постоянным русским войском.
7. В тексте упоминается ведение военных действий царским правительством в качестве причины начавшегося бунта.
8. Согласно тексту, представители местной власти поддерживали тесный контакт с будущими предводителями восстания.
9. В тексте упоминаются цели начавшегося восстания.
10. В тексте описывается установленное наказание за неподчинение царскому указу.
11. В тексте упоминается необходимость дополнительного расширения торговли для восстановления экономики после смуты.
12. В тексте описываются методы изготовления фальшивых денежных знаков.

Ответ:

А			Б			В		
<del>1</del>	<del>5</del>	12 ✓	1 ✓	4 ✓	6 ✓	9 ✓	2 ✓	8 ✓

**ВСЕРОССИЙСКАЯ ОЛИМПИАДА ШКОЛЬНИКОВ  
ПО ИСТОРИИ. 2023–2024 УЧЕБНЫЙ ГОД  
ШКОЛЬНЫЙ ЭТАП. 11 КЛАСС.**



696

Время на выполнение работы 90 минут.

Шифр 11-82

(максимальное количество баллов - 100)

**Задание 1.** Выберите пропущенный в ряду портрет. За выбор верного ответа – 3 балла.



0 Ответ: 2 -

**Задание 2.** Какие из перечисленных географических названий связаны с крупными сражениями русско-японской войны 1904–1905 гг.? За каждый правильный ответ – 2 балла. Если выбрано больше 4 утверждений, то 0 баллов. Максимум за задание – 6 баллов.

1. Харбин
2. Ляоян
3. Итуруп
4. Мукден
5. Цусимский пролив

6. Янцзы

Ответ: \_\_\_\_\_

4, 5, 2

**Задание 3.** Выберите из списка события, произошедшие в году, следующем за годом, в котором произошли события, описанные во фрагменте. За каждый правильный ответ – 2 балла. Если выбрано больше 4 утверждений, то 0 баллов. Максимум за задание – 6 баллов.

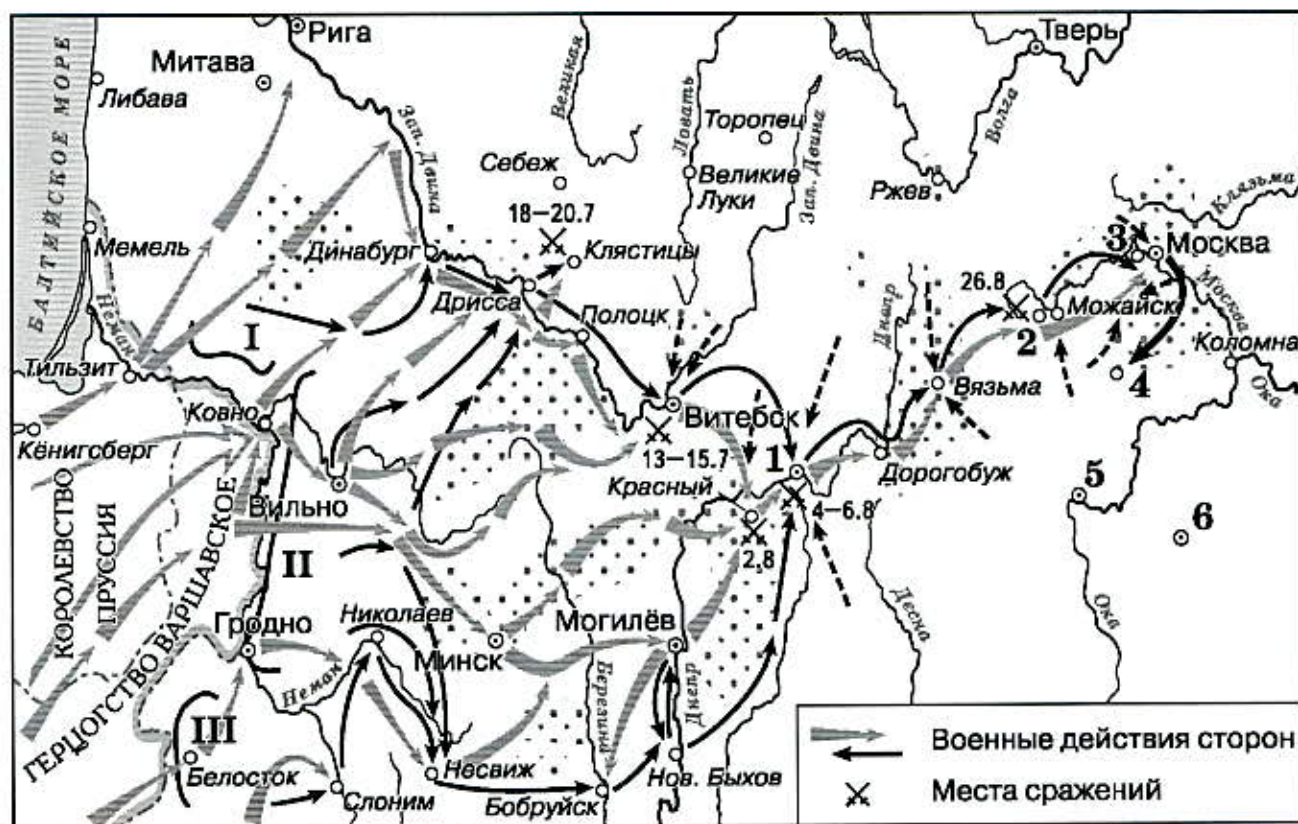
В залу с улыбкой под шум разговора  
Вошёл Воровский – делегат С.С.С.Р.  
Шокинг! позорной культуры нет лака.  
В пышном обществе говор и шум:  
«Как смели сюда вы явиться без фрака?!»  
«Он без цилиндра!»; «Мужик».  
«Простите! не знал я, да знать разве мог я,  
Что здесь это важно решающим столь.  
У нас это проще: во фраке, без фрака,  
В блузе рабочей, в простых сапогах,  
У нас ведь не нужны отличия знаков,  
Что нужно, решаем всегда и без них.  
У нас ведь одеты совсем не как "денди" –  
В простых сапогах, в блузе рабочей,  
Кофе не пьют там, там нет и щербета,  
Но дело там делают не на словах».  
И замерла зала, как будто невольно  
Звонок председателя вдруг прогремел:  
«Господа! На сегодня, быть может, довольно.  
Пора отдохнуть от сегодняшних дел».

А утром в отеле под фирмой «Астория»  
 Посол наш убит был убийцы рукой,  
 И в книге великой российской истории  
 Жертвой прибавилось больше одной!

1. строительство первого Мавзолея В.И. Ленина
2. присоединение ДВР к РСФСР
3. принятие первой Конституции СССР
4. принятие первого пятилетнего плана
5. установление дипломатических отношений между СССР и Великобританией
6. исключение СССР из Лиги Наций

26  
 Ответ: Х, 5, 6 ✓

Задание 4. Внимательно рассмотрите схему и выполните задания.



4.1. Выберите номера отрывков из источников, в которых отражены те же события, что и на представленной схеме. За каждый правильный ответ – 2 балла. Если выбрано больше 6 утверждений, то 0 баллов. Максимум за задание – 8 баллов.

1. Раннее утро 23-го застало нас на ногах, на пути к крепости. Мы шли целый день, люди валились с ног от болезней. Первый привал был на Каче, откуда открывался великолепный вид; наши друзья казаки держались чуть впереди. 24-го мы снова тронулись в путь, без значительных происшествий, разве что наш незримый враг, холера, по-прежнему преследовал нас, выбирая себе жертвы. В числе последних оказался и французский главнокомандующий,



доблестный, жизнерадостный маршал Сент-Арно. Но мы продолжали путь, ведь на кону была честь трёх наций.

Ничего достойного упоминания не происходило вплоть до 28-го, когда вроде бы стало наклёвываться дело под стать альминскому. Мы изготовились к бою; артиллерия и кавалерия выдвинулись во фронт. Схватку начали шотландцы, было захвачено несколько пленных. Стрелки дали по русским несколько залпов – как оказалось впоследствии, это был вражеский арьергард. Мы взяли кое-какие трофеи, но дело кончилось ничем; раз обжёгшись, русские уже не решались нападать.

2. В 3 часа пополудни армия, имея только один Драгомиловский мост к отступлению, выступила одною колонною и в самом большом порядке и тишине проходила Москву. Глубокая печаль написана была на лицах воинов, и казалось, что каждый из них питал в сердце мщение за обиду, как бы лично ему причинённую.

Между тем, пройдя Москву, армия взяла направление по Рязанской дороге и расположилась лагерем при деревне Панки. Когда неприятель приблизился к Москве, тогда генерал Милорадович, командовавший арьергардом, заключа перемирие на несколько часов с начальником неприятельского авангарда королём неаполитанским, отступил не только без малейшей потери с своей стороны, но ещё дал время многим из жителей выбраться из города. В арсенале оставшееся ещё оружие тем временем было частью выбрано, частью истреблено. Наконец, оставя город, генерал Милорадович с арьергардом расположился в виду одного пред селением Карачаровым...

3. ...В сем положении наш центр и все вышеупомянутые резервы были подвержены сильному неприятельскому огню; все его батареи обратили действие своё на курган, построенный накануне и защищаемый 18-ю батарейными орудиями, подкреплёнными всею 26-ю дивизиею под начальством генерал-лейтенанта Раевского. Избежать сего было невозможно, ибо неприятель усиливался ежеминутно противу сего пункта, важнейшего во всей позиции, и вскоре после того большими силами пошёл на центр наш под прикрытием своей артиллерии густыми колоннами, атаковал курганную батарею, успел овладеть ею и опрокинуть 26-ю дивизию, которая не могла противустоять превосходнейшим силам неприятеля.
4. ...Потомки побеждённых, легки на подъём, но крепки духом, спешили на помощь сынам Альбиона в одной из самых неравных и жестоких битв в истории. Будем надеяться, что кровью, пролитой в тот день, союз двух соседствующих наций был скреплён навечно! Французы сражались дерзко, не уступая нам ни в чём, и враг был разбит. Русские офицеры дрались с отчаяньем обречённых, их солдаты отступали с величайшей неохотой. Но британцы и зуавы работали штыком на редкость эффективно, не зная устали, а наши частенько подбадривали друг друга вопросами о том, что скажут о нас на родине.

Но я в этом уже не участвовал; я сделал всё, что мог, и около полутора часов пролежал на земле в напряжённом ожидании смерти от случайного выстрела. Видит бог, это было нелегко. Уж лучше броситься в атаку! Но приходилось лежать без движения.

5. Порядка в батальоне не было, да и не могло быть: нижние чины на ночь уходили из казарм, а ближайшие их начальники не смели об этом докладывать из боязни быть убитыми! Ничего хорошего это не предвещало. Семён сначала писал мне довольно часто, но 25 августа его предназначили для отправки в армию, а 28-го его повезли (как он мне писал из Люблина 1 сентября) на Гродно, Варшаву, Ивангород, Белосток и Люблин; он сообщал, что во всё время пути получал только один раз горячую пищу, в Пскове! Затем в письмах наступил почему-то перерыв. 6 октября он мне писал из Люблинской же губернии: он был взводным 10-й роты л.-гв. Гренадерского полка и уже был под огнём; следующее (и последнее) письмо было от 27 октября: он был в сражениях на реке Сане под Новгородом(?), жаловался на ужасы войны, на холод и голод и просил о присылке тёплых вещей. Посылка с тёплыми вещами, парой сапог и едой уже была отправлена ему почтой, 15 октября, но, по-видимому, до него не дошла. Писем от него больше не было, и приходилось считать его погибшим. По моей просьбе полковник л.-гв. Гренадерского полка, флигель-адъютант Поливанов, наводил о нём справку в запасном батальоне полка и сообщил мне, что Семён Панин пропал без вести 11 ноября, когда его батальон был окружён австрийцами.
6. Пока работали над сооружением мостов, мой полк, так же как и все другие части 2-го корпуса, дождался на левом берегу приказа перейти реку; император, ступая большими шагами, переходил от одного полка к другому, разговаривая с солдатами и офицерами. Мюрат сопровождал его. Этот воин, такой храбрый, такой предприимчивый и совершивший так много боевых подвигов, когда победоносные французы шли на Москву, – гордый Мюрат как бы отошёл в тень с тех пор, как ушли из этого города, и в продолжение всего отступления он ни разу не принял участия ни в одном бою. Молча следовал он за императором, точно был посторонним всему тому, что происходило в армии. Тем не менее он, казалось, вышел из своего оцепенения при виде Березины и тех единственных войск, которые, сохраняя порядок, являлись в этот момент последней надеждой на спасение.
7. Армия находится более недели близ села Тарутина на правом берегу Нары и, пребывая в совершенном спокойствии, получает от того новые силы. Полки укомплектовываются прибывающими из разных губерний сформированными генералом от инфантерии князем Лобановым-Ростовским войсками. В лагере производится учение рекрут, горящих рвением сразиться с неприятелем. Лошади нашей кавалерии, получая в довольном количестве фураж и стоя на здоровом водопое, приметным образом поправляются. Продовольствие устроено таким образом, что армия не терпит ни малейшей нужды и большие к армии ведущие дороги





покрыты транспортами, идущими из самых хлебобродных губерний, близ коих армия расположена.


Расстроенные силы неприятеля не позволяют делать ему против нас покушений. Удалением от пределов своих лишён он всех пособий; продовольствие его час от часу становится затруднительнее, и пленные уверяют единодушно, что в их армии употребляют в пищу лошадиное мясо, несмотря на то что у них мяса более, нежели хлеба.

8. Всё исполнено как нельзя лучше; мы, не видя в глаза неприятеля, очутились в лагере Дорохова, который, имея у себя лёгкий отряд, весьма недоволен был тяжёлому товариществу доброго своего приятеля Неверовского; вскоре потом, целым уже составом двух отрядов прибыли к Несвижу, где нашли 2-ю армию проходившею чрез оный; к Могилёву 27-я дивизия прибыла в конце сражения; нас не вводили в оное; ночью производилось общее, суматошное, быстрое движение к Старому Быхову, там поспешная переправа и потом славное соединение армии 2-й с 1-ю у г. Смоленска; о сем чудно выдержанном марше россиянин имеет право сказать с благородною гордостью.

60  
Ответ: 2, 6, 7, 8

- 4.2. Выберите портреты, принадлежащие родным братьям правителя русского государства, в период правления которого велись военные действия, отражённые на схеме. За каждый правильный ответ – 1 балл. Если выбрано больше 4 утверждений, то 0 баллов. Максимум за задание – 3 балла.

1. 	2. 
3. 	4. 




35  
Ответ: 2, 4, 6  
✓✓✓

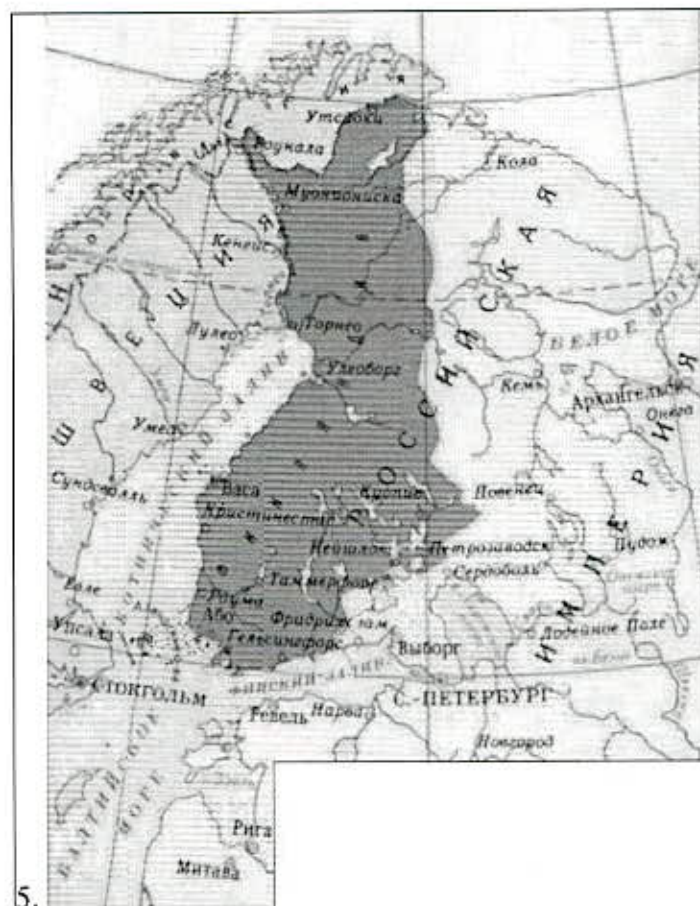
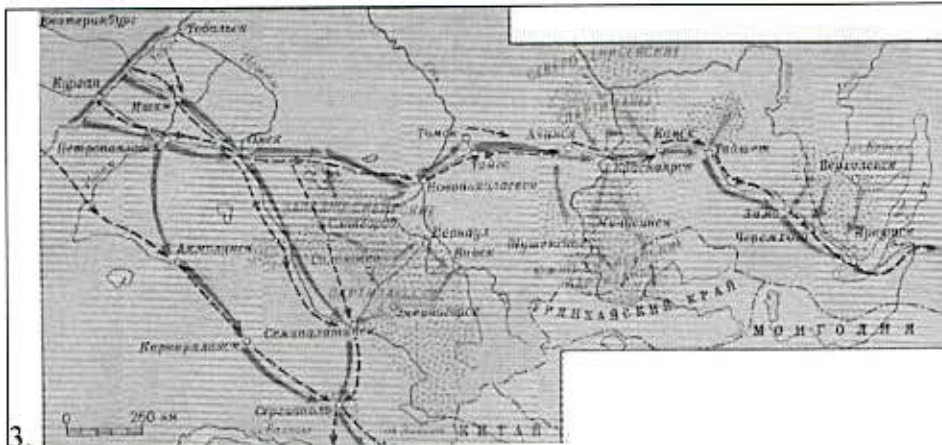
**Задание 5.**

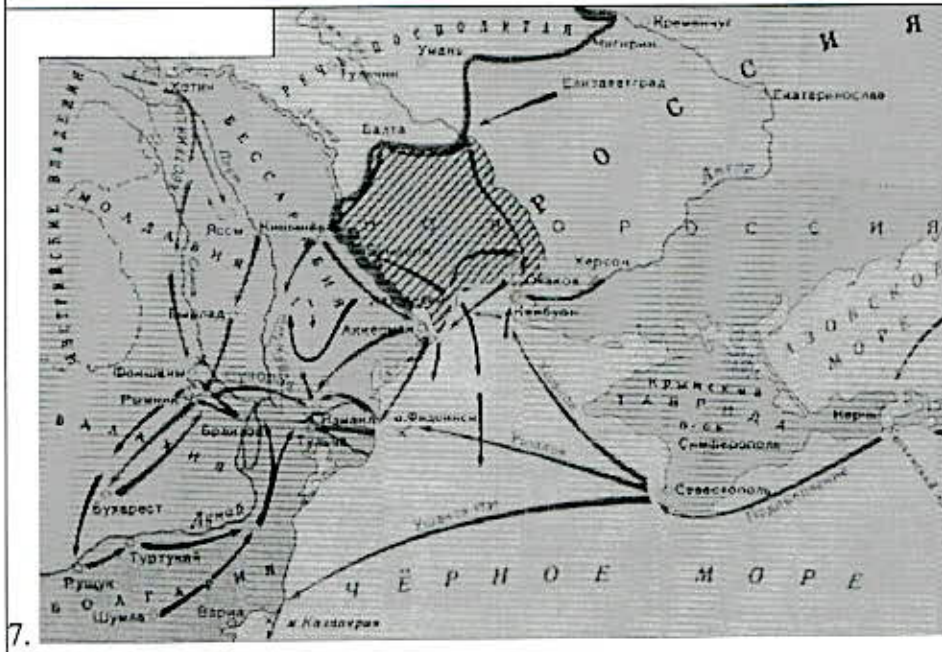
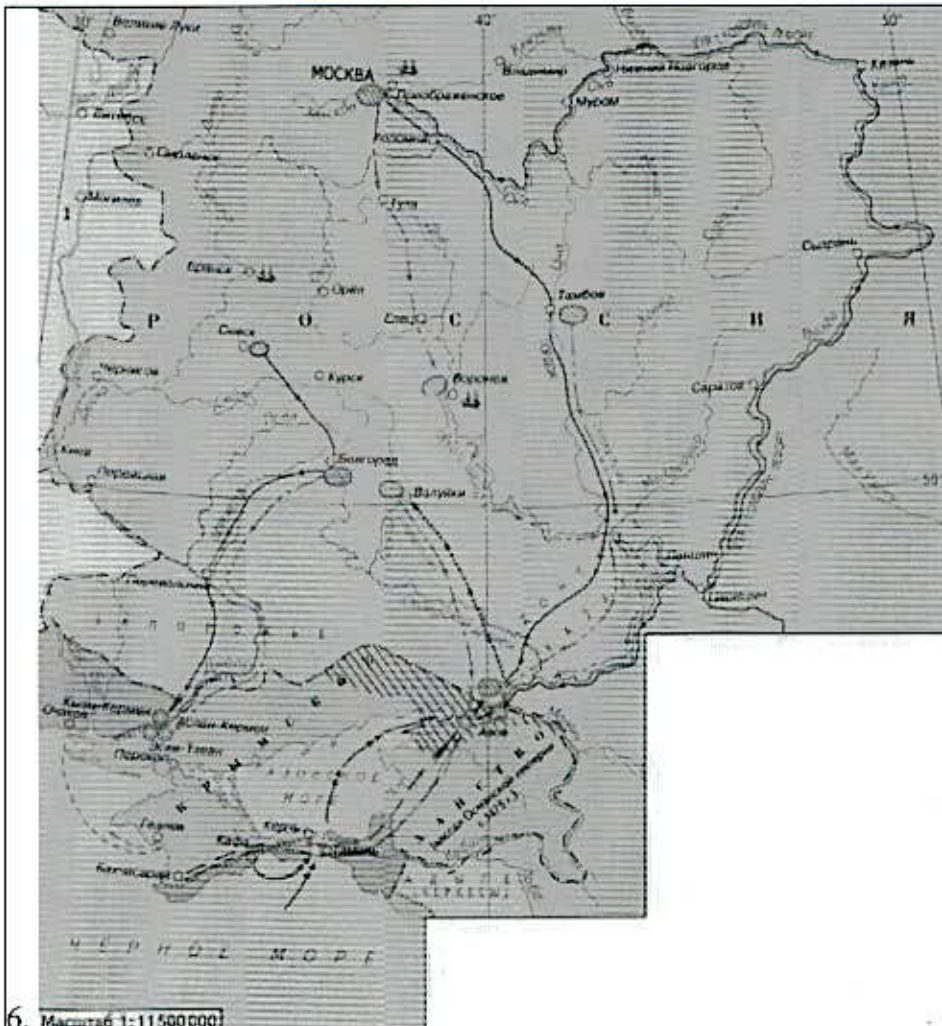
**5.1.** Выберите из схем и картин те, которые отражают события, произошедшие:


- А) на век раньше событий, отображённых на схеме
- Б) на век позже событий, отображённых на схеме
- В) в том же веке, что и события, отображённые на схеме

Обратите внимание на то, что среди изображений есть лишние. За каждый **правильный** выбор – 1 балл. Если выбрано больше 4 утверждений для каждого периода, то 0 баллов. Максимум за задание – 6 баллов.









Ответ:

А ✓	Б ✓	В ✓
2, 4, 7, 8	3, 9, 10	5, 8, 1

5.2. Выберите верные утверждения. За каждый правильный ответ – 1 балл. Если выбрано больше 7 утверждений, то 0 баллов. Максимум за задание – 5 баллов.

1. В ходе событий, отражённых на схеме, противоборствующие войска дважды прошли через город Слоним.
2. Событиям, отражённым на схеме, посвящено одно из произведений М.Ю. Лермонтова.
3. Цифрой 1 на схеме обозначен город Смоленск.
4. Точками обозначены территории, утраченные Россией по итогам войны, события которой отражены на схеме.
5. Военные действия на территории России, отражённые на схеме, длились не более 6 месяцев.
6. Современником событий, отражённых на схеме, был К.П. Победоносцев.
7. В битве, обозначенной на схеме крестом и цифрой 2, погиб П.И. Багратион.
8. Согласно схеме, в городах, обозначенных цифрами 5 и 6, не велись военные действия.
9. На схеме обозначен город, в котором был заключён мир по итогам войны, события которой отражены на схеме.
10. Цифрами I, II и III обозначены армии, которыми на начало военных действий, отражённых на схеме, командовали М.Б. Барклай-де-Толли, П.И. Багратион, А.П. Тормасов соответственно.

405 Ответ: 2, 3, 4, 7, 8, 10

**Задание 6.** Заполните пустые ячейки таблицы, используя список пропущенных элементов. **За выбор верного ответа – 1 балл. Максимум за задание 8 баллов.**

Фрагмент источника	Год появления источника	Событие отечественной истории, произошедшее (происходившее) в тот же год
(А)	1801 г.	(Б)



<p>Я помню, какое удручающее впечатление произвело на отца это бессмысленное убийство. Не говоря уже о том, что его ужасала жестокая смерть царя, «сделавшего много добра и всегда желавшего добра людям, старого, доброго человека», он не мог перестать думать об убийцах, о готовящейся казни и «не столько о них, сколько о тех, кто готовился участвовать в их убийстве».</p> <p>Несколько дней он ходил задумчивый и пасмурный и наконец надумал написать новому государю...</p> <p>Как крепко он верил тогда в силу своего убеждения! Как он надеялся, что преступников - не простят, нет, на это он не надеялся, а хоть не казнят!</p> <p>Письмо это попало в руки государя через одного знакомого. Говорят, что, прочтя его император сказал:</p> <p>«Если бы преступление касалось меня лично, я имел бы право помиловать виновных, но за отца я этого сделать не могу».</p>	(В)	(Г)
(Д)	(Е)	Издание Манифеста о вольности дворянства
(Ж)	(З)	Отмена свадьбы Петра II с Екатериной Долгоруковой

Варианты для вставки:

Вставки для А, Д, Ж	Вставки для В, Е, З	Вставки для Б, Г
---------------------	---------------------	------------------

<p>...Говорят, хотя я и не могу этого утверждать наверное, что Пален опоздал нарочно, чтобы, в случае неудачи плана заговорщиков, он мог бы сделать вид, что прибежал арестовать их, и уверить императора, что он был его спасителем... Заговор, правда, был выражением почти единодушных желаний высших классов и большей части офицеров, но не так дело обстояло с солдатами. Строгости, безрассудные неистовства императора обрушивались обыкновенно на чиновников, на генералов и старших офицеров... Но только в очень редких случаях прихотливая строгость касалась солдат.</p>	<p>1728 г.</p>	<p>Манифест о присоединении Картли-Кахетии</p>
<p>Господа сенаторы, вы сами свидетели, каким образом при самом начатии нашего предприятия Божие благословение над нами и всем Отечеством нашим излилося... Наше намерение и матернее милосердие о человеческом роде, а паче о верноподданных, скипетру нашему принадлежащих, к тому только и склонялося, дабы при таковом важном предприятии дойти до благого конца без всякого кровопролития. И сие теперь самим делом уже совершилося. Мы маршировали от Петербурга до половины пути в неизвестности, что делается в Ораниенбоуме и что в Петергофе, а на половине дороги получили подлинное известие, что бывший император со всем находившимся при нём двором, оставя свои мнимые голштинские войски, ретировался на яхтах и галере в Кронштадт, куда мужеск и женск пол оногo своего двора всех насилно без остатка за собою взял...</p>	<p>1730 г.</p>	<p>Отмена внутренних таможенных пошлин в России</p>
<p>Хотя волею всевысшего царя согласным соизволением всего народа единодушно ваше величество на престол империи Российской возведена, ваше же императорское величество, в показание высокой вашей ко всему государству милости, изволили представленные пункты подписать, за которые ваше милостивное намерение всенижайше рабски благодарствуем, и не токмо мы, но и</p>	<p>1762 г.</p>	<p>Манифест о незыблемости самодержавия</p>

<p>вечно наследники наши имени вашему бессмертное благодарение и почитание воздавать сердцем и устами причину имеют; однако же, всемилостивейшая государыня, в некоторых обстоятельствах тех пунктов находятся сумнительства такие, что большая часть народа состоит в страхе предбудущего беспокойства, из которого только неприятелям Отечества нашего польза быть может, и хотя мы, с благорассудным рассмотрением написав на оные наше мнение, с подобающею честью и смирением представили, прося, чтобы изволили для пользы и спокойствия всего государства по оному, яко по большему числу голосов, безопасную правления государственного форму учредить, однако же, всемилостивейшая государыня, они ещё о том не рассудили, а от многих и мнений подписанных не принято, а объявлено, что того без воли вашего императорского величества учинить невозможно.</p>		
--	--	--

<p>Жалуем сим имянным указом с монаршим и отеческим нашим милосердием всех, находившихся прежде в крестьянстве и в подданстве помещиков, быть верноподданными рабами собственной нашей короне; и награждаем древним крестом и молитвою, головами и бородами, вольностию и свободою и вечно казаками, не требуя рекрутских наборов, подушных и протчих денежных податей, владением землями, лесными, сенокосными угодьями и рыбными ловлями, и соляными озёрами без покупки и без оброку; и освобождаем всех от прежде чинимых от злодеев дворян и градских мздоимцов-судей крестьяном и всему народу налагаемых податей и отягощений. И желаем вам спасения душ и спокойной в свете жизни, для которой мы вкусили и претерпели от прописанных злодеев-дворян странствие и немалые бедствия. А как ныне имя наше</p>	<p>1796 г.</p>	<p>Акт о престолонаследии</p>
---	----------------	-------------------------------

<p>властью всевышней десницы в России процветает, того ради повелеваем сим нашим имянным указом: кои прежде были дворяне в своих поместьях и водчинах, — оных противников нашей власти и возмутителей империи и разорителей крестьян, ловить, казнить и вешать, и поступать равным образом так, как они, не имея в себе христианства, чинили с вами, крестьянами. По истреблении которых противников и злодеев-дворян, всякой может возчувствовать тишину и спокойную жизнь, коя до века продолжатца будет.</p>		
	1825 г.	
	1881 г.	

Ответ:

А	
Б	
В	
Г	
Д	
Е	
Ж	
З	

08

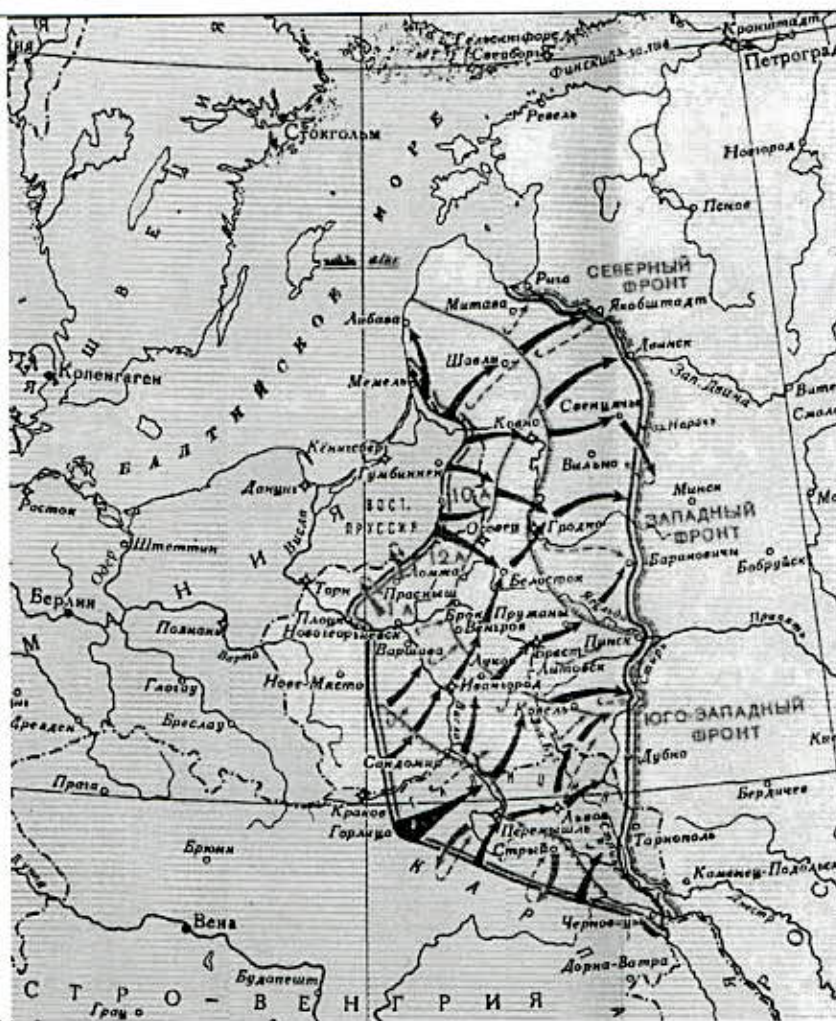
**Задание 7.** Установите соответствие между историческими периодами (1-я половина XVIII в., 2-я половина XVIII в., 1-я половина XIX в., 2-я половина XIX в., 1-я половина XX в.) и изображениями, их отражающими. За каждый правильный ответ – 1 балл. Если в каждом периоде выбрано больше 3 утверждений, то 0 баллов. Максимум за задание – 10 баллов.







6.



7.

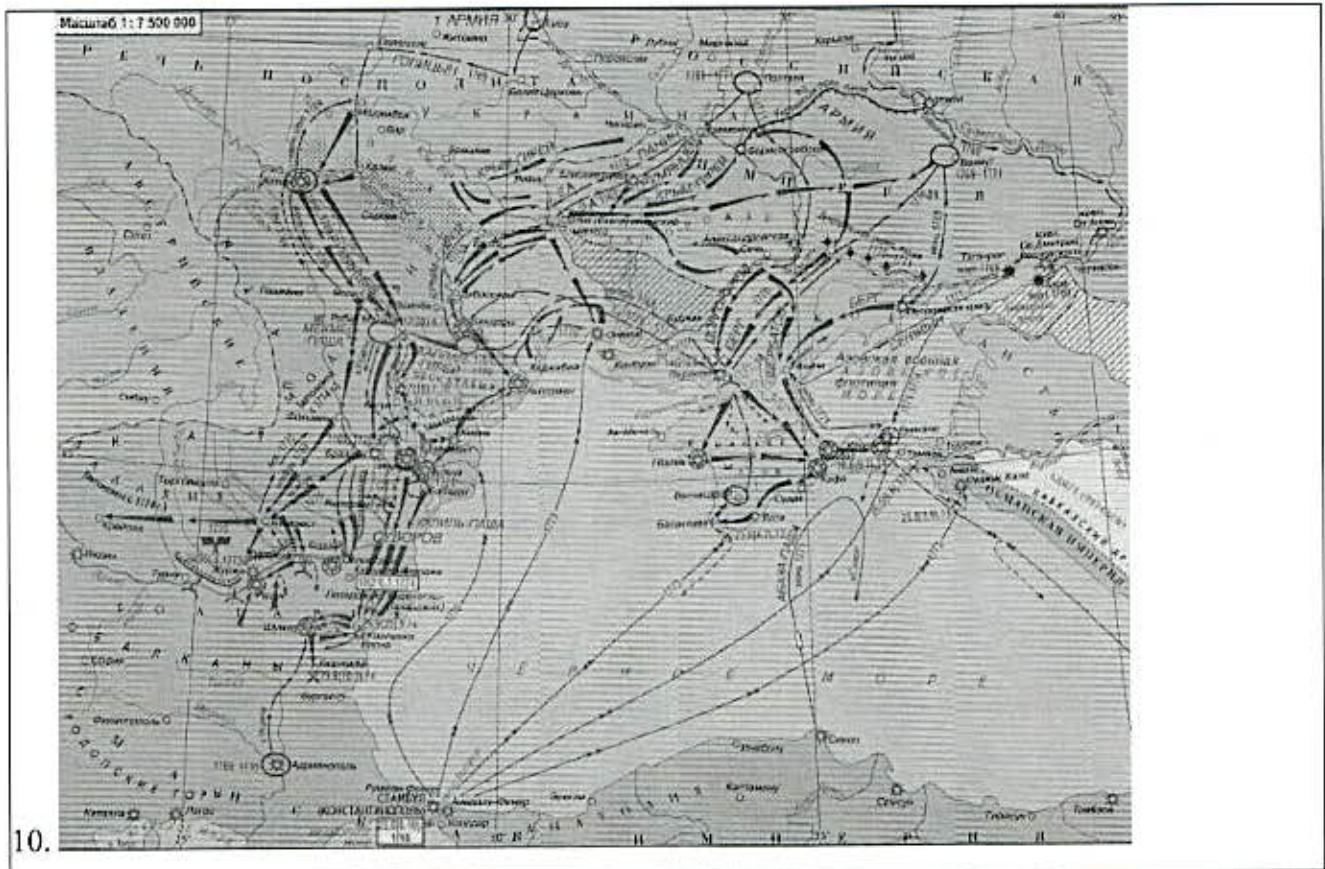


8.



9.





Ответ:

86

1-я половина XVIII в.	2-я половина XVIII в.	1-я половина XIX в.	2-я половина XIX в.	1-я половина XX в.
4,3 ✓	8,2 ✓	9 ✓	1,6 ✓	5,7 ✓

Задание 8. Рассмотрите представленные плакаты и карикатуры. Выберите те, которые связаны с событиями коренного перелома в ходе Великой Отечественной войны. За каждый правильный ответ – 1 балл. Если выбрано больше 7 утверждений, то 0 баллов. Максимум за задание – 5 баллов.





25  
Ответ: 2, 3, 4, 6, 7, 10

**Задание 9.** Установите соответствие между фрагментами исторических источников и их краткими характеристиками: к каждому фрагменту, обозначенному буквой, подберите по три соответствующие характеристики. **За каждый правильный ответ – 2 балла. Если для каждого фрагмента выбрано больше 3 характеристик, то 0 баллов. Максимум за задание – 30 баллов.**

**А.** Рабочее и Крестьянское Правительство, созданное революцией 24–25 октября и опирающееся на Советы Рабочих, Солдатских и Крестьянских Депутатов, предлагает всем воюющим народам и их правительствам начать немедленно переговоры о справедливом, демократическом мире.

Справедливым или демократическим миром, которого жаждет подавляющее большинство истощённых, измученных и истерзанных войной рабочих и трудящихся классов всех воюющих стран, миром, которого самым определённым и настойчивым образом требовали русские рабочие и крестьяне после свержения царской монархии, – таким миром правительство считает немедленный мир без аннексий (т. е. без захвата чужих земель, без насильственного присоединения чужих народностей) и без контрибуций.

Такой мир предлагает Правительство России заключить всем воюющим народам немедленно, выражая готовность сделать без малейшей оттяжки тотчас же все решительные шаги впредь до окончательного утверждения всех условий такого мира полномочными собраниями народных представителей всех стран и всех наций.

**Б.** Я достал из поставца шкатулку с цианистым калием и положил её на стол рядом с пирожными. Доктор Лазоверт надел резиновые перчатки, взял из неё несколько кристалликов яда, истёр в порошок. Затем снял верхушки пирожных, посыпал начинку порошком в количестве, способном, по его словам, убить слона. В комнате царило молчанье. Мы взволнованно следили за его действиями. Осталось положить яд в бокалы. Решили класть в последний момент, чтобы отравка не улетучилась. И ещё придать всему вид оконченного ужина, ибо я сказал Распутину, что в подвале обыкновенно пирую с гостями, а порой занимаюсь или читаю в одиночестве в то время, как приятели уходят наверх покурить у меня в кабинете. На столе мы всё смешали в кучу, стулья отодвинули, в чашки налили чай. Условились, что, когда я поеду за «старцем», Дмитрий, Сухотин и Пуришкевич поднимутся в бельэтаж и заведут граммофон, выбрав музыку повеселей. Мне хотелось поддержать в Распутине приятное расположение духа и не дать ему ничего заподозрить.

**В.** Соображения и заключение присутствия: Рассмотрев настоящее дело, Присутствие находит, что представленный для регистрации устав кружка подмосковных дачников представляет собой не более, не менее, как обычный устав городских клубов, имеющих главной своей целью карточную игру. За последнее время в Москве наблюдается громадное распространение

Всероссийская олимпиада школьников. История. 2023–2024 уч. г.  
учреждений такого рода, вызвавшее в публике такое пристрастие к азартным играм, что столичная администрация принуждена была принять ряд ограничительных мер по отношению к сим клубам, от запрещения женщинам принимать участие в игре до закрытия самих клубов включительно. Быть может, эти репрессии последнего времени вызвали попытки открытия клубов за чертой города, в дачных местностях, как это можно видеть из поступающих в Присутствие заявлений. Но Присутствие признаёт, что насаждение учреждений такого рода представляется недопустимым как в отношении охранения общественной нравственности, так и в отношении установления надлежащего надзора за клубами в селениях.

Г. В настоящее время, наряду с известными историками-ревизионистами (К. Кларк, Ш. Макмикин), есть и другие, кто считает, что не только Берлин и Вена, но и другие европейские столицы склонны были подозревать Сербию в организации сараевского покушения. При этом, однако, отмечается, что эти подозрения лишь отчасти были оправданными. Заговорщики осуществили покушение по указанию или при поддержке «Чёрной руки» – организации, тесно связанной с армией. Главное действующее лицо – шеф военной разведки Апис, считавший Фердинанда опасным подстрекателем войны. Что касается правительства во главе с Н. Пашичем, то оно, будучи осведомлённым о планировавшемся, предупредило Вену. Некоторые исследователи отмечают, что Австро-Венгрии ни в ходе первоначального расследования, ни после изучения захваченных сербских документов не удалось доказать участие правительства в покушении или установить связь между заговорщиками и российским военным агентом. Тем не менее стоит запомнить следующее умозаключение историка Оливера Янца: «Если где-то военные круги и оказывали решающее влияние на политику, без которого не началась бы война, то это в Сербии. Здесь армия была ключевым фактором внутренней и внешней политики»

Д. 14-го июля. Понедельник.

Чудная погода продолжается. Утром погулял полчаса; затем принял Григоровича и в 12 ч. Танеева.

Завтракали одни. От 3 час. поиграли в теннис. В 6 час. принял Маклакова. Интересных известий было мало, но из доклада письменного Сазонова [видно, что] австрийцы, по-видимому, озадачены слухом о наших приготовлениях и начинают говорить. Весь вечер читал.

19-го июля. Суббота.

Утром были обычные доклады.

После завтрака вызвал Николашу и объявил ему о его назначении верховным главнокомандующим впредь до моего приезда в армию...

По возвращении оттуда узнали, что Германия нам объявила войну. Обедали: Ольга Александровна, Дмитрий и Иоани (деж.). Вечером приехал английский посол Бьюкенен с

Всероссийская олимпиада школьников. История. 2023–2024 уч. г.  
телеграммой от Георга. Долго составлял с ним вместе ответ. Потом видел ещё Николашу и  
Фредерикса. Пил чай в 12 1/4.

20-го июля. Воскресенье.

Хороший день, в особенности в смысле подъёма духа. В 11 час. поехал с Мари и Анастасией к  
обедне. Завтракали одни. В 2 1/4 отправились на  
«Александрии» в Петербург и на карете прямо в Зимний дворец. Подписал манифест об  
объявлении войны. Из Малахитовой прошли выходом в Николаевскую залу, посреди  
которой был прочитан манифест и затем отслужен молебен.

1. Согласно тексту источника, найти прямые доказательства противоправной или преступной деятельности третьих лиц в описанных в тексте событиях так и не удалось.
2. Источник, фрагмент которого приведён, относится к такому виду источников, как делопроизводство.
3. Источник, фрагмент которого приведён, относится к такому виду исторических источников, как законодательный акт.
4. Источник, фрагмент которого приведён, относится к такому виду источников личного происхождения, как дневники.
5. В тексте источника упоминается учреждение, созданное в результате земской реформы Александра II.
6. В тексте источника упомянут термин, означающий выплаты в пользу проигравшего в войне государства победившего.
7. События, упомянутые в источнике, произошли в 1918 году.
8. По мнению автора, не вызывает сомнений утверждение во всецелой индивидуальной ответственности России за произошедшие события.
9. Согласно тексту источника, поначалу позиции России и Англии расходились по вопросам, связанным с приготовлениями к войне.
10. В тексте упоминаются события, произошедшие за 6 месяцев до появления данного источника.
11. Приведённый источник является составной частью Версальского мирного договора.
12. Источник, фрагмент которого приведён, относится к такому виду источников личного происхождения, как воспоминания.
13. В источнике упоминается событие, активным участником которого был Гаврило Принцип.
14. Окончательное решение по делу было принято исходя из соображений морально-нравственного характера.

15. Источник, фрагмент которого приведён, относится к **позднейшим** историческим исследованиям – историографии.
16. Автор приведённого исторического источника – Николай Александрович Романов.
17. Участником событий, отражённых во фрагменте источника, был **Ф. Юсупов**.
18. В источнике отмечается **слабая результативность** борьбы с нарушениями российского законодательства.
19. Согласно тексту источника, кадровые вопросы в войсках были решены до вступления России в войну.
20. В тексте источника упоминается заговор, целью которого была защита царской семьи от **обладавшего, согласно пародной молве, тёмными силами «старца»**.

Ответ:

А	Б	В	Г	Д
3, 6, 7, 10	12, 14, 20	5, 2, 14, 18	13, 15	4, 16

**Задание 10.** Установите соответствие между приведёнными высказываниями историков и формулировками проблем, которые должны быть рассмотрены при написании исторического эссе (сочинения) на основе этих высказываний. Формулировка проблемы должна полно и корректно отражать ключевые аспекты цитаты. **По 2 балла за каждое верное соответствие. Максимум за задание – 10 баллов.**

Обратите внимание на то, что среди формулировок проблем есть лишние.

Высказывания историков

- А) «На основах, заложенных Владимиром, Ярослав завершил строение Киевского государства. Он правит подвластными городами, заново стягивая власть над всей Русью к киевскому центру. Таким же завершителем организации Киевского государства выступает Ярослав и в церковных делах». (А.Е. Пресняков)
- Б) «Московские князья рано вырабатывают своеобразную политику, с первых шагов начинают действовать не по обычаю, раньше и решительнее других сходят с привычной колеи княжеских отношений, ищут новых путей». (В.О. Ключевский)
- В) «Происшедшие в правление Ивана IV перемены наложили глубокий отпечаток на характер отношений между государственной властью и дворянским сословием, определив на долгие времена и характер русской государственности, и характер русского общества не только в эпоху Средневековья». (Б.Н. Флоря)
- Г) «Век XVII дал Петру “материал”, без которого он не сумел бы и шага сделать вперёд». (И.Л. Андреев)

Д) «Первая мировая война была коалиционной войной. Успех её ведения зависел от согласованных действий союзников. Однако выработать единую общесоюзническую стратегию не удалось». (И.И. Ростунов)

Формулировки проблем

1. Место обычая в политике московских князей
2. Влияние реформ XVII в. на возможности реализации программы реформ Петра
3. Сравнение сущности и итогов правления Владимира и Ярослава
4. Влияние союзнических отношений на ход Первой мировой войны
5. Оценка отклонения политики московских князей от обычаев и его значения в истории России
6. Характеристика особенностей взаимоотношений боярства с царской властью в правление Ивана IV
7. Роль правления Владимира в возвращении власти на Руси к киевскому центру
8. Сравнение политики Петра с политикой правителей XVII в.
9. Историческое значение правления Ивана IV
10. Влияние союзников и общесоюзнической стратегии на становление Первой мировой войны войной коалиций

Ответ:

85

А	Б	В	Г	Д
3 ✓	<del>1</del>	9 ✓	2 ✓	4 ✓

(695)

**ВСЕРОССИЙСКАЯ ОЛИМПИАДА ШКОЛЬНИКОВ**  
**ПО ИСТОРИИ. 2023–2024 УЧЕБНЫЙ ГОД**  
**ШКОЛЬНЫЙ ЭТАП. 10 КЛАСС.**

**Время на выполнение работы 90 минут.**

Шифр 10-43

(максимальное количество баллов - 100)

**Задание 1.** Укажите фамилию, пропущенную в приведённом ряду. Плева В.К., Святополк-Мирский П.Д., ..., Дурново П.Н. **За выбор верного ответа – 1 балл.**

- 1) Столыпин П.А.
- 2) Булыгин А.Г.
- 3) Уваров С.С.
- 4) Лорис-Меликов М.Т.

*08* Ответ: 1

**Задание 2.** Выберите из списка события, произошедшие в том же году, что и события, описанные во фрагменте. **За каждый правильный ответ – 2 балла. Если выбрано больше 4 утверждений, то 0 баллов. Максимум за задание – 6 баллов.**

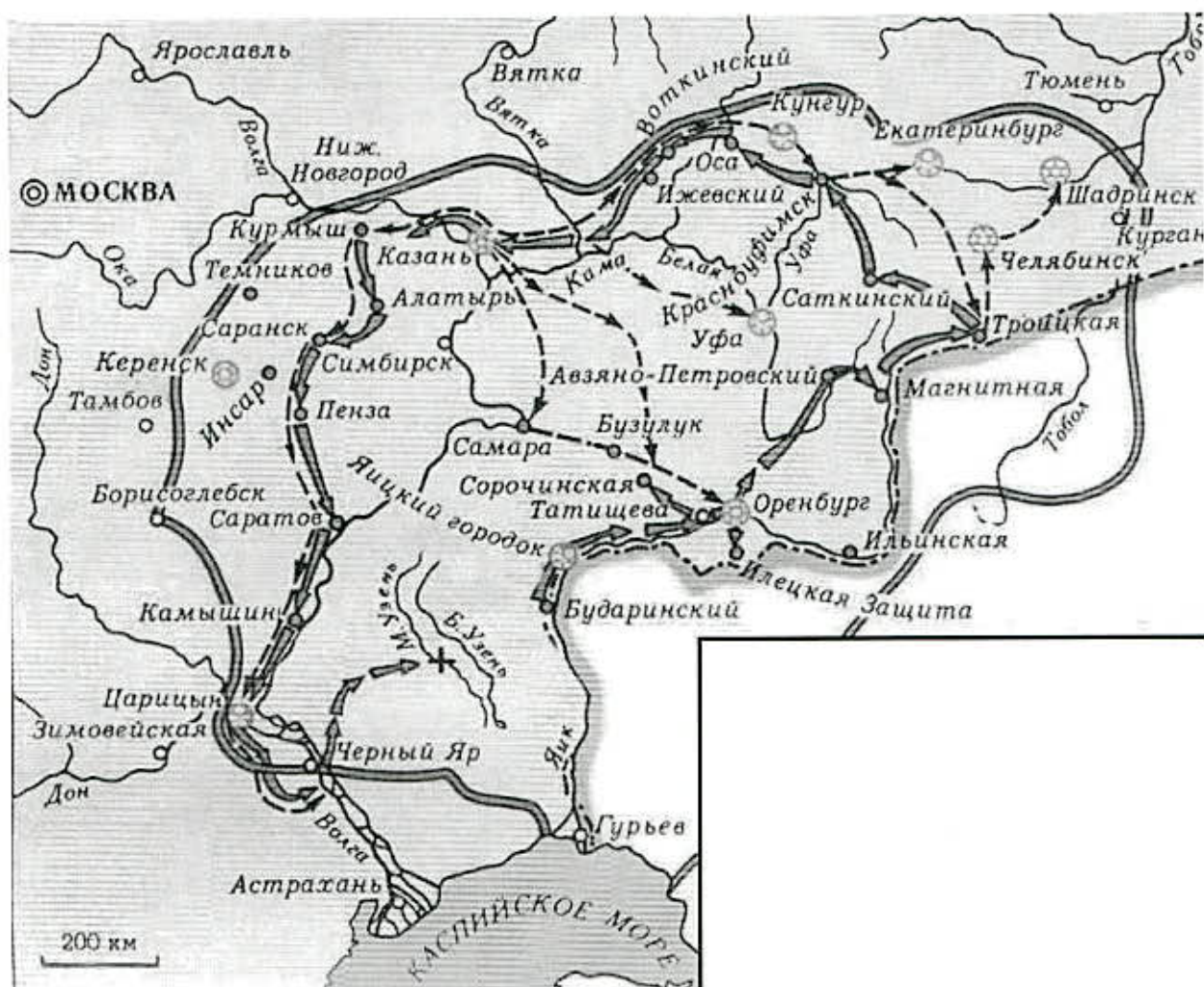
*С учётом всех этих новых и печальных обстоятельств моё сердце разрывалось на части, но моя душа оставалась непоколебимой. Для меня имели значение только интересы нации; я отправился в ссылку на скалу посреди моря. Моя жизнь была и вновь будет полезной вам... Благодаря вашему выбору я был возведён на трон, и всё то, что делалось без вашего участия, является незаконным. В течение 25 лет у нашей нации появились новые интересы, новые институты, новая слава. И всё это может гарантировать только национальное правительство и династия, рождённые в результате этих новых обстоятельств. Монарх, который будет править вами, уселся на мой трон благодаря тем же армиям, которые разорили нашу землю. Он безуспешно будет стремиться укрепить своё положение с помощью прав феодалов; он смог обеспечить честь и права только небольшому числу лиц, врагов народа, которые на протяжении последних 25 лет порицали его на всех наших национальных собраниях. Ваше спокойствие дома и ваше уважение за границей будут потеряны навечно...*

- 1) «Сто дней» Наполеона
- 2) Битва народов
- 3) Отмена университетской автономии
- 4) Дарование Конституции Царству Польскому
- 5) Луизианская покупка
- 6) Образование «Священного союза»

*25* Ответ: 2 1 3



**Задание 3.** Внимательно рассмотрите схему и выполните задания.



**3.1.** Выберите номера отрывков из источников, в которых отражены те же события, что и на представленной схеме. За каждый правильный ответ – 3 балла. Если выбрано больше 6 утверждений, то 0 баллов. Максимум за задание – 12 баллов.

1. Я, единственный царь всей России, объявляю бедному народу, жаждущему свободы, что моя бывшая жена Екатерина в сговоре со своими любовниками лишили меня власти, а я с помощью придворных спасся бегством. Теперь ввиду наличия честных и храбрых и свободолюбивых казаков и при доверии мне со стороны угнетённого русского народа я постепенно стал возвращать свою власть. В ближайшее время всю Россию и престол, доставшийся мне ещё от дедов, верну под своё крыло, а моим любимым (уважаемым народам) дам возможность жить свободно, счастливо и мирно...
2. И егда ко граду Астрахани стал приближаться, тогда он послал от себя к воеводе Астраханскому возвестити, что он идёт с немалыми козацкими воински, с которыми он воевал в Каспийском море против Персианов, и других бусурманских народов, и побрал тамо многие острова и грады. А ныне идёт с повинною к Царю и Великому Князю просить прощения о дерзновении его тогда бывшем и чинённым им по реке Волге. К тому ж объявляет воеводе, что

он имеет при себе великия богатства и сокровища персидския, всякия драгия вещи, котория он везёт к Его Царскому Величеству; да к тому же обещавает не токмо взятые им в Каспийском море острова в подданство к России привести, но и другия многия победы тамо обещавает, – только б милость Его Царского Величества к нему воспоследовала в прощении его злодеяния первого...

3. ...Пришли они с толпою к Казане, имели тут три сражения с городской командою, город зажгли (зажигали кто именно не знает). Во время сего пожара самозванец с толпою, в том числе и он, Перфильев, разъезжали по городу и противных кололи и стреляли, но кого именно и сколько человек убили он, Перфильев, сказать не может. По разбитии из Казани бежали чрез Волгу и шли по разным деревням и городам, но где именно были он, Перфильев, не припомнит, а помнит только одни города Алатырь и Пензу. И во всех сих местах нигде им сопротивления не делали, а встречали с честью.
4. ...Государю царю и великому князю всеа Великия и Малыя и Белья Росии самодержицу холоп твой Алёшка Хитрово челом бьёт. А велено из Сумского острогу послать в Соловецкой монастырь ково пригожей; и в том монастыре архимариту Иосифу и соборным и рядовым старцом и слугам и служебником и богомольцом всякого монастырского чину и работником сказать твой великого государя указ о обращении. И я, холоп твой, из Сумского острогу в Соловецкой монастырь послал генваря в 1-м. А подьячево Ивана Дорофеева отпустил того ж месяца в 6-м числе.
5. На столе поставлено было три арбуза, из них один необыкновенной величины, которой взялся было пополам перерезать Чумаков столовым старческим ножичком, но как он был не велик и не остёр, то требовал побольше ножа, почему некоторые как из старцев, так и из свиты и подсуетились то у того, то у другого спрашивать побольше ножа, но все отозвались неимением. А как в сие время государь говорил что-то с одним старцем всех прочих древнейшим, то Чумаков и Творогов, близ коих стоял и Федулов, подошли к нему и просили: «государь, батюшка, не пожалуете ли вашего ножа разрушить арбуз; ибо здесь ни у старцев, ни у наших нет того большого ножа, коим бы можно было перерезать сей невидимый арбуз». Он, говоря со старцем, вынул нож из ножен, отдал Творогову и оборотился посмотреть, как будут оный резать. Но вдруг слышит от Чумакова, Творогова и Федулова один голос: «Мы обманывались – ты не государь Пётр Фёдорович, а изменник и бунтовщик!»
6. И в скором времени, на Москве и в городех, объявились в тех медных денгах многие воровские, и тех людей хватили и пытали всячески... И кто до чего дошёл, казнили смертною казнию, и отсекали руки и прибывали у денежных дворов на стенах, а дома их и животы имали из царя безденежно. Однако, те люди на такие великие мучения и смерти и разорения не смотрели, делали такие воровские денги аж до скончания тех денег; и мало кто из таких воров не


пойман и не казнён. И которые воры были люди богатые, и они от своих бед откупались, давали на Москве посулы большие боярину, тестю царскому... а в городех посулы ж воеводам и приказным людей; и они, для тех посулов, тем воров помогали и из бед избавляли...

7. ...Разделив между собою остальную добычу, они приступили было к разрушению самого дома. Тогда его царское величество прислал им сказать, что дом этот принадлежит ему. Услыхав это, бунтовщики немедленно покинули его, умертвив трёх самых главных служителей. Дальше толпа бешено повалила к дому Назара Ивановича Чистова, которого дом они тоже совсем разграбили... так как сам канцлер был болен и находился в это время в бане. Когда он из бани возвращался домой, бунтовщики, встретив его, избili дубинами и топорами. Первый, ударивший его топором по голове, закричал ему при этом: «Изменник, это тебе за соль», – ибо именно он наложил большую подать на соль

8. ...Мятежник сидел в деревянной клетке на двухколёсной телеге. Сильный отряд при двух пушках окружал его. Суворов от него не отлучался. В деревне Мостах (во сте сорока вёрстах от Самары) случился пожар близ избы, где ночевал мятежник. Его высадили из клетки, привязали к телеге вместе с его сыном, резвым и смелым мальчиком, и во всю ночь Суворов сам их караулил. В Коспорье, против Самары, ночью, в волновую погоду, Суворов переправился через Волгу и пришёл в Симбирск в начале октября.

125  
 Ответ: 1 3 5 8

3.2. Выберите портрет императора, с чьим именем связаны события, отражённые на схеме. За выбор верного ответа – 1 балл.



18  
 Ответ: Б (2)

Задание 4

4.1. Выберите из представленных схем и картин те, на которых отражены события, произошедшие:

А) на век раньше событий, отображённых на схеме

Б) на век позже событий, отображённых на схеме

В) в том же веке, что и события, отображённые на схеме

Обратите внимание на то, что среди изображений есть лишние. За каждый правильный выбор – 2 балла. Если выбрано больше 4 утверждений для каждого периода, то 0 баллов. Максимум за задание – 12 баллов.



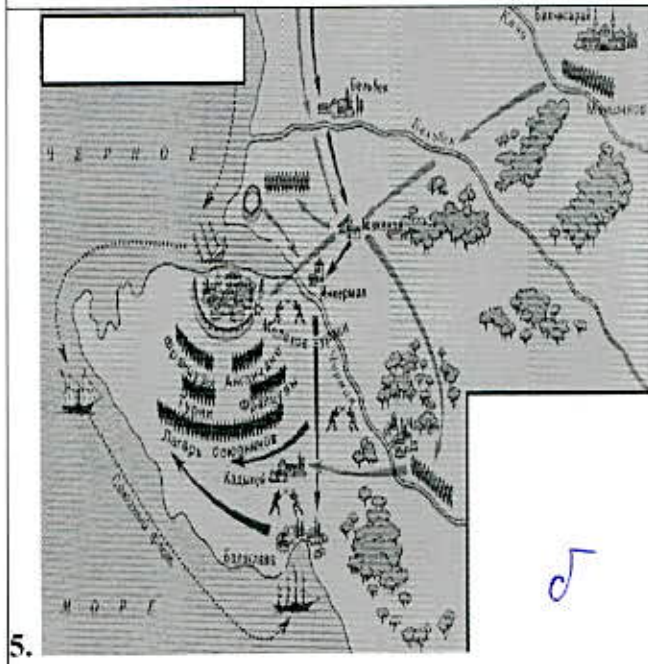
x



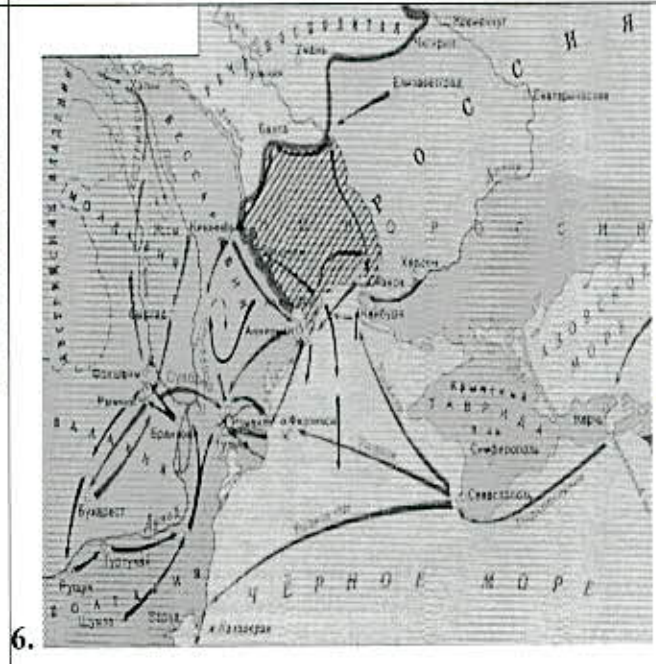
x




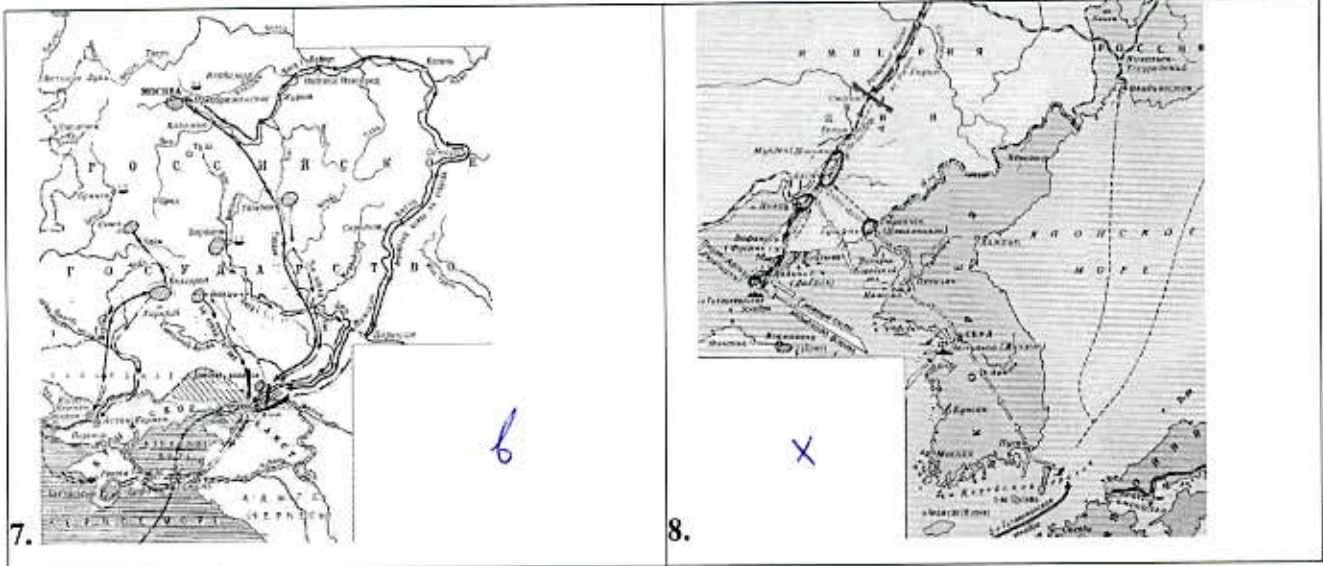
a



б



б



Ответ:

86

А	Б	В
+4	+5 9+	+6 7 1

4.2. Выберите верные утверждения. За каждый правильный ответ – 1 балл. Если выбрано больше 7 утверждений, то 0 баллов. Максимум за задание – 5 баллов.

1. X События, отражённые на схеме, привели к разорению Тюмени.
2. На схеме обозначено не менее двух географических объектов, переименованных вскоре после окончания событий, отражённых на схеме.
3. Современником событий, отражённых на схеме, был Вольтер.
4. X В результате событий, отражённых на схеме, была введена рекрутская повинность.
5. Крестом на схеме обозначено место, где был захвачен один из руководителей войска, походы которого обозначены на схеме стрелками.
6. X События, отражённые на схеме, вошли в историю под названием «Великая замятня».
7. На схеме обозначен город, в котором находилась крупнейшая ярмарка в Российской империи.

8. ✗ В период событий, отражённых на схеме, комендант Астрахани сдал город без боя.

9. Все территории, обозначенные на схеме зелёной границей, входят в состав современной России.

10. В период событий, отражённых на схеме, Казань, Царицын и Оренбург подвергались осаде.

45  
 Ответ: ~~2~~ 2 5 9 10 3

Задание 5. Заполните пустые ячейки таблицы, используя список пропущенных элементов. За выбор каждого верного ответа – 1 балл. Максимум за задание 8 баллов.

Фрагмент законодательного акта Российской империи	Год появления источника	Правитель (правительство) Франции в период, когда был издан источник
(А) 1	(Б) 4	Наполеон III
...Закон божий в десятословии нам преподанный научает нас седмый день посвящать ему, почему в день настоящий торжеством веры христианской прославленный, и в который мы удостоилися воспрять священное мира помазание и царское на прародительском престоле нашем венчание, почитаем долгом нашим пред творцом и всех благодателем подтвердить во всей империи нашей о точном и не переменном сего закона исполнении, повелевая всем и каждому наблюдать, дабы никто и ни под каким видом не дерзал в воскресные дни принуждать крестьян к работам, тем более что для сельских издольев остающиеся в неделе шесть дней по равному числу оных в обще разделяемый, как для крестьян собственно, так и для работ их в пользу помещиков следующих, при добром распоряжении достаточны будут на удовлетворение всяким хозяйственным надобностям.	(В) 5	(Г) 7
(Д) 2	1842 г.	(Е) 8
(Ж) 3	(З) 6	Консулат

Варианты для вставки:

Вставки для А, Д, Ж.	Вставки для Б, В, З.	Вставки для Г, Е.
----------------------	----------------------	-------------------

<p>Помещики, сохраняя право собственности на все принадлежащие им земли, предоставляют крестьянам, за установленные повинности, в постоянное пользование усадебную их осёдлость и сверх того, для обеспечения быта их и исполнения обязанностей их пред правительством, определённое в положениях количество полевой земли и других угодий.</p> <p>Пользуясь сим поземельным наделом, крестьяне за сие обязаны исполнять в пользу помещиков определённые в положениях повинности...</p>	<p>1797 г. 1 6</p>	<p>Директория</p>
<p>Вместе с тем им даётся право выкупать усадебную их осёдлость, а с согласия помещиков они могут приобретать в собственность полевые земли и другие угодья, отведённые им в постоянное пользование. С таким приобретением в собственность определённого количества земли крестьяне освобождаются от обязанностей к помещикам по выкупленной земле и вступают в решительное состояние свободных крестьян-собственников.</p>		
<p>..Мы признали за благо, в пояснение Свода Законов о состояниях (т. 9) ст. 442, пункта 3, предоставить тем из помещиков, которые сами сего пожелают, заключить с крестьянами своими, по взаимному соглашению, договоры на таком основании, чтобы, не стесняясь постановлениями о свободных хлебопашцах, помещики сохраняли принадлежащее им полное право вотчинной собственности на землю, со всеми её угодьями и богатствами, как на поверхности, так и в недрах её, а крестьяне получали от них участки земли в пользование за условленные повинности. При составлении таких договоров помещики могут постановлять с крестьянами дальнейшие условия, по взаимному с ними соглашению, на следующих, рассмотренных в Государственном Совете и Нами утверждённых главных правилах</p>	<p>1801 г. 3</p>	<p>Луи- Филипп I 8</p>

<p>...1) Если кто из помещиков пожелает отпустить благоприобретённых или родовых крестьян своих поодиночке или и целым селением на волю и вместе с тем утвердить им участок земли или целую дачу, то сделав с ними условия, какие по обоюдному согласию признаются лучшими, имеет представить их при прошении своём через губернского дворянского предводителя к министру внутренних дел для рассмотрения и представления нам; и если последует от нас решение желанию его согласное: тогда предъявятся сии условия в Гражданской палате и запишутся у крепостных дел со взносом узаконенных пошлин.</p>	<p>1803 г.</p> <p style="text-align: center;">3 5</p>	<p>Наполеон I</p> <p style="text-align: center;"># 7</p>
<p>К вам обращаем наше слово, достойно знаменующиеся победительным орденом! Вас хвалим, о потомки, достойные предков своих! Сии были основа величества России, вы силу и славу</p>	<p>1813 г.</p>	<p>Людовик XVI</p>
<p>отечества совершили шестилетними непрерывными победами в Европе, Азии, Африке, на сухом пути в Молдавии, Бессарабии, Валахии, за Дунаем, в городах Балканских, в Крыму и в Грузии; на море же – в Мореи, в Архипелаге, Чесме, Метелине, Лемносе, Негрепонте, Патросе, Египте, на Азовском и Чёрном морях, на реках Днепре и по великому течению Дуная...</p> <p>С новыми выгодами и приращением нашей империи, когда пользуемся всякою внутреннею и внешнею повсюду тишиною, мы подвиг свой вящше и вящше устремляем к непрерывному упражнению доставить нашим верноподданным во всех нужных частях внутреннего государственного управления твёрдые и прочные постановления ко умножению благополучия и порядка на будущия времена и для того, во-первых, достойно находим простерти наше попечение к нашему вернोलюбезному подданному российскому дворянству, имея в памяти вышесказанныя его заслуги, ревность, усердие и</p>		



<p>непоколебимую верность самодержцам всероссийским, нам самим и престолу нашему оказанныя в паисмутнейшия времена, как в войне, так и посреде мира...</p>		
<p>В Бозе почивший Родитель Наш священной памяти император неоднократно являл крестьянам знаки своего отеческого попечения и прилагал непрестанные заботы к устройству их быта.</p> <p>Прекратив крепостные отношения во всём государстве, император повелел уменьшить платежи по выкупу земли, причитавшиеся с бывших помещичьих крестьян всей западной полосы империи. Подобным же образом повелено было понизить выкупные платежи и по отдельным во многих других местностях селениям, которые находились в особенно неблагоприятных условиях. Обращая внимание на положение бывших помещичьих крестьян в прочих частях государства и желая явить и им знак нашей монаршей о них заботы, мы повелеваем:</p> <p>1. Понизить выкупные платежи бывших помещичьих крестьян во всех губерниях, где были введены местные Великороссийское и Малороссийское Положения</p>	<p>1861 г. <i>4</i></p>	







Ответ:

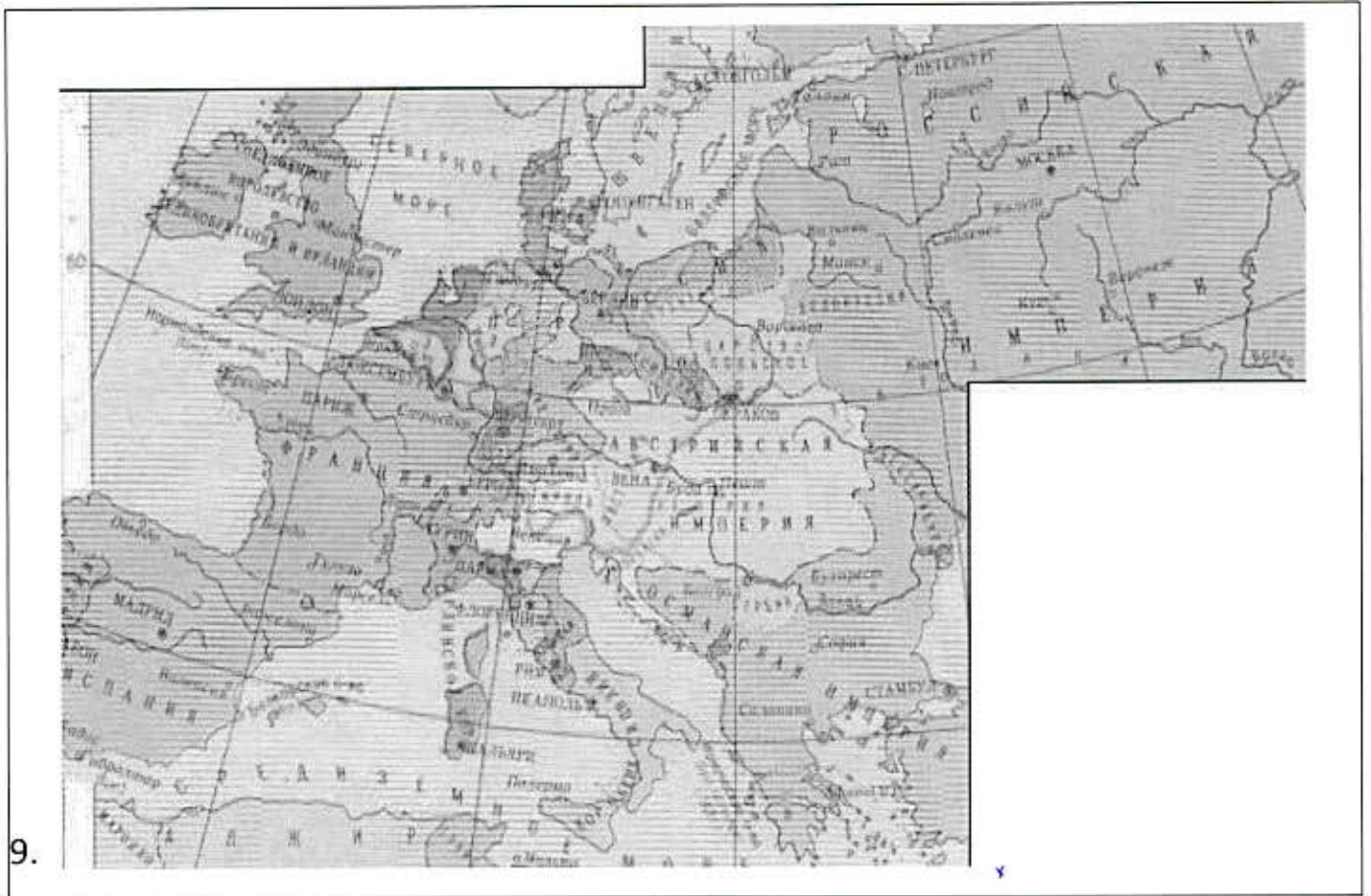
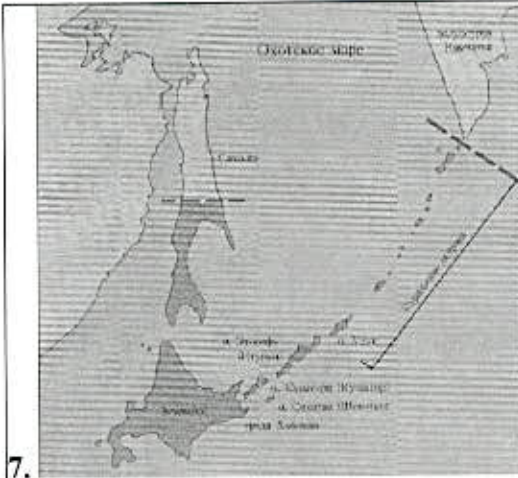
А	<del>1</del>
Б	4 <i>f</i>
В	<del>5</del>
Г	<del>7</del>
Д	<del>2</del>
Е	8 <i>f</i>

*25*

Ж	<del>3</del>
З	<del>6</del>

**Задание 6.** Установите соответствие между историческими периодами и отражающими их изображениями. За каждый правильный ответ – 1 балл. Если в каждом периоде выбрано больше 3 утверждений, то 0 баллов. Максимум за задание – 10 баллов.

<p>1. </p>	<p>2. </p>
<p>3. </p>	<p>4. </p>
<p>5. </p>	<p>6. </p>





Ответ:

1-я половина XVIII в.	2-я половина XVIII в.	1-я половина XIX в.	2-я половина XIX в.	1-я половина XX в.
3 8 10+	1+ 5	+2 9+	7 6+	4

58

**Задание 7.** Рассмотрите представленные обложки литературных произведений. Выберите те, которые посвящены событиям Великой Отечественной войны. За каждый правильный ответ – 1 балл. Если выбрано больше 7 утверждений, то 0 баллов. Максимум за задание – 5 баллов.




1.



2.





56

Ответ: 2 5 6 8 9

**Задание 8.** Установите соответствие между фрагментами исторических источников и их краткими характеристиками: к каждому фрагменту, обозначенному буквой, подберите по три соответствующие характеристики. За каждый правильный ответ – 2 балла. Если для каждого фрагмента выбрано больше 3 утверждений, то 0 баллов. Максимум за задание – 30 баллов.

Обратите внимание на то, что среди приведённых характеристик есть лишние.

**А. 54. АЖЕ КОТОРЫЙ КУПЕЦ ИСТОПИТЬСЯ.** Аже который купец, где любо шед с чожими кунами, истопиться, любо рать возметь, ли огонь, то не насилити ему, ни продати его; по како начнеть от лета платити, тако же платити, зане же пагуба от бога есть, а не виноват есть; аже ли пропиеться или пробиеться, а в безумьи чюжь товар испортити, то тако любо тем, чии то товар, ждуть ли ему, а своя им воля, продадять ли, а своя им воля.

**56. АЖЕ ЗАКУП БЕЖИТЬ.** Аже закуп бежить от господы, то обель; идеть ли искати кун, а явлено ходити, или ко князю, или к судиям бежить обиды деля своего господина, то про то не работять его, но дати ему правду.

**58. О ЗАКУПЕ ЖЕ.** Аже из хлева выведуть, то закупу того не платити; но оже погубить на поли и в двор не вженеть и не затворить, где ему господин велить, или орудья своя дея, а того погубить, то то ему платити.

**59. Аже господин переобидить закупа, а увидить купу его или отарицу, то ему всё воротити, а за обиду платити ему 60 кун.**

**Б.** Потом Никои, друг наш, привёз из Соловков Филиппа митрополита. А прежде его приезда Стефан духовник молил Бога, постясь седмицу с братней, – и я с ними тут же, – о патриархе, чтоб дал Бог пастыря для спасения душ наших. Мы с митрополитом Корнилием

Казанским, написав челобитную за собственными руками, подали её царю и царице – о духовнике Стефане, чтоб ему быть в патриархах. Он же не захотел сам и указал на Никона митрополита. Царь его и послушал. И пишет ему послание навстречу:

«Преосвященному Никону, митрополиту Новгородскому и Великолуцкому и всея Руси, радоваться», и прочее.

Когда же тот приехал, с нами – как лис: челом да здорово; ведаёт, что быть ему в патриархах, и чтоб откуда помешка какова не учинилась. Что о тех кознях и говорить! Царь его на патриаршество зовёт, а он будто не хочет. Морочил царя и людей, а с Анною по ночам укладывают, как чему быть; и, вдоволь наломавшись, с дьяволом, взошёл на патриаршество, Божиим попусцием, опутав царя своими кознями и клятвою лживою.

**В.** После переворота 25 ноября люди, стоявшие наверху и стремившиеся ко власти, все были враждебны Остерману, все имели с ним старые счёты; друзей не было, тем более что характер знаменитого дипломата отталкивал, а не привлекал, такие характеры осуждают людей на одиночество. Таким образом, за Остермана не могло быть ходатаев у новой императрицы, все спешили наперерыв вооружать её против него, всеобщую ненавистью оправдать её личное нерасположение, а это нерасположение, как мы видели, было велико. Елисавета не любила Остермана, потому что с его стороны не встречала к себе ни малейшего сочувствия, на которое считала себя вправе как дочь Петра Великого, выведшего Остермана; с Петра II между Елисаветою и Остерманом должны были начаться столкновения, борьба за влияние; при Анне примирения быть не могло, в последнее время к нерасположению присоединился страх. Елисавета более чем кого-либо боялась Остермана, а это чувство не располагает к любви; мы видели, что Елисавета даже не могла сдерживаться и позволяла себе выходки против Остермана, который платил тем же; при всей своей осторожности и скрытности он не мог удержаться и, когда пришли арестовать его, сделал выходку против Елисаветы, что, разумеется, не могло содействовать к смягчению гнева новой императрицы

**Г.** ...Того же году Божиим попусцием грех ради наших турецкой царь салтан воста гонением на христианскую православную веру и изгна из Царяграда патриарха Иеремя и со всем его собором. Он же прииде в царствующий град Москву, а с ним митрополит да владыка да гречан 60 человек.

Во следующее лето Божиим благоволением благоверный государь царь и великий князь Феодор Иванович всеа Руси самодержец, по совету и по благословению Царяграда патриарха Иеремя, и со отцем своим митрополитом всеа Руси и со архиепископы и епископы и с архимариты и игумены и со вселенским собором и со всеми бояры уложили и поставили на патриаршество на пресловущий град Москву митрополита Иева. Сей бысть первый патриарх на Москве, а в

Новгород на митрополию архиепископа Александра, а в Казань митрополита же и в Ростов и на Крутицы митрополитов, а преже тоже были по тем градом архиепископии.

Д. А в отписке астраханского митрополита написано:

Астраханские де служилые и всяких чинов люди, призвав его в круг, и помянутую его государеву грамоту увидев за подписанием высокодержавной его царского пресветлого величества руки и за красною печатью, слушали с великим прилежанием и со слезами. А о молебстве и о крестном целованье и что та грамота в ризнице, и о серебряном ковчеге написано то ж, что сказали помянутые присланные выше сего.

А по письму их отдал тою грамоту посланному от них мурзе князь Каспулату Урусову. И они, приняв её с великою честью, за премногою его, в. государя, к ним милость, о его государском здоровьи молебствовали. А о другой его ж, в. государя, милостивой же грамоте, присланной с Кисельниковым с товарищи, иные из них усомневаясь чинили розврат, будто та грамота прислана без его государева указа, на что его ж царское величество в подтверждение указал послать из Гродни вышеписанную свою, в. государя, грамоту за подписанием собственнй своей руки и с приложением государственных печати, дабы они сумнения не имели и об отпуске вин своих прислали б челобитчиков.

1. В тексте источника упоминается категория зависимого населения на Руси, чья зависимость оформлялась договором на выполнения конкретной работы. (a?)

2. Источник, фрагмент которого приведён, относится к такому виду источников личного происхождения, как автобиография.

3. Автор источника негативно характеризует морально-нравственные качества одного из участников событий, которым посвящён текст. Ж. (b?)

4. Согласно тексту источника, кандидатура новгородского патриарха была предложена лично царём. ✗

5. Источник, фрагмент которого приведён, относится к житийной литературе.

6. Источник, фрагмент которого приведён, относится к такому виду исторических источников, как законодательный акт. (a?)

7. Согласно тексту источника, причиной ареста политического деятеля является его участие в заговоре против правящего монарха. (b?)

8. В тексте упоминается крепость, выстроенная в период регентства Елены Глинской.

9. В тексте источника упоминаются материальные свидетельства подлинности государственных документов. (d?)



10. Источник, фрагмент которого приведён, относится к позднейшим историческим исследованиям – историографии.
11. В тексте источника упоминается каноническая процедура избрания лица высшего церковного сана.  $\delta^2$  (2)
12. В тексте источника упоминаются события, решающую роль в которых играла привилегированная часть войска – гвардия. (2)
13. Источник, фрагмент которого приведён, относится к такому виду источников, как летопись. (2)
14. Автор источника отмечает вынужденный характер поездки в Москву одного из участников событий.  $\delta^2$  (2)
15. В тексте источника описывается способознакомления населения с нормативно-правовыми актами. (2)
16. Современником событий, которым посвящён фрагмент источника, была Ф.П. Морозова.
17. Одной из причин возникшего конфликта автор называет личную неприязнь участников событий, которым посвящён фрагмент источника. (2)
18. В тексте источника упоминается размер компенсации, выплачиваемой заёмщику в случае нарушения условий договора займодателем. (2)
19. Источник, фрагмент которого приведён, относится к такому виду источников, как делопроизводство.
20. Автором приведённого источника является Владимир Мономах.

Ответ:

А			Б		В			Г			Д		
1	6+	18+	2+	16+	3	11	12	13	14	11	9	15	19

**Задание 9.** Установите соответствие между приведёнными высказываниями историков и формулировками проблем, которые должны быть рассмотрены при написании исторического эссе (сочинения) на основе этих высказываний. Формулировка проблемы должна полно и корректно отражать ключевые аспекты цитаты. По 2 балла за каждое верное соответствие.

Максимум за задание – 10 баллов.

Обратите внимание на то, что среди формулировок проблем есть лишние.

**Высказывания историков**

А) «Древние культы восточных славян не соответствовали идее единства страны. Для укрепления Древнерусского государства нужна была единая религия, которая обожествляла бы... новый общественный строй». (А.М. Сахаров)

Б) «Победа на Куликовом поле сгубила Мамаю, но не создала какого-либо перелома в русско-ордынских отношениях. Облегчение участи Великороссии придёт лишь в конце XV века. Но это не умаляет, однако, крупного исторического значения битвы». (А.Е. Пресняков)

В) «Тот путь централизации через опричный террор, по которому пошёл Грозный, был разорительным и даже гибельным для России». (В.Б. Кобрин).

Г) «Елизавета своей популярностью обязана ужасам времён Анны». (В.О. Ключевский)

Д) «В начале XX в. кризис «верхов» происходил в условиях кризиса всей системы государственной власти». (Л.Г. Захарова)

### Формулировки проблем

- 1) Историческое значение Куликовской битвы
- 2) Состояние системы государственной власти и политической элиты Российской империи в начале XX в.
- 3) Причины крещения Руси и его место в изменении общественного строя Древнерусского государства
- 4) Оценка влияния поражения Мамаю на сохранение положения русских земель
- 5) Сопоставление политических курсов Анны и Елизаветы и их восприятие современниками
- 6) Роль религии в общественном строе Древнерусского государства
- 7) Влияние политических методов Ивана IV в период опричнины на историческое развитие России
- 8) Историческое значение кризиса власти в начале XX в.
- 9) Характеристика правления Елизаветы в сравнении с временами Анны
- 10) Значение опричного террора в процессе централизации Русского государства

### Ответ:

А	Б	В	Г	Д
3 +	1 +	<del>10</del>	<del>9</del>	2 +

68

6-25

605

Шифр

**ВСЕРОССИЙСКАЯ ОЛИМПИАДА ШКОЛЬНИКОВ ПО ИСТОРИИ.  
ШКОЛЬНЫЙ ЭТАП, 2023-2024 УЧЕБНЫЙ ГОД  
6 КЛАСС.**

Время выполнения 45 минут.

Максимальное количество баллов 100.





**Задание 1.** Выберите верные утверждения. За каждый правильный ответ – 3 балла. За каждый неверный выбор штраф – 2 балла. Максимум за задание – 12 баллов.


1. Термин «Средние века» впервые появился в сочинениях Гомера.
2. Легенда о «суассонской чаше» связана с именем короля франков Хлодвига.
3. В результате реформ Солона в Афинах было запрещено обращать граждан в рабство за долги.
4. По приказу египетского фараона Рамзеса II началось строительство крупнейшей египетской пирамиды.
5. На территории современной России археологами были найдены изделия из бивней мамонтов.
6. Последним правителем Западной Римской империи был Карл Мартелл.
7. В середине V в н. э. войсками Ганнибала Барки был разрушен Карфаген.
8. В битве на Каталунских полях войска под командованием Аэция разбили гуннские племена под началом Аттилы.

125

Ответ: 2, 3, 5, 8

**Задание 2** Установите последовательность создания представленных на иллюстрациях памятников архитектуры в хронологическом порядке от раннего (1) к позднему (5). По 3 балла за каждую верную позицию. Максимум за задание – 15 баллов.

<p>1.</p>  <p>3</p>	<p>2.</p> 
<p>1</p>  <p>3.</p>	<p>5</p>  <p>4.</p>



5.

95

Ответ: 3 2 / 4

**Задание 3.** Установите соответствие между историческими деятелями и связанными с ними событиями. По 3 балла за каждое верное соответствие. Максимум за задание – 18 баллов.

1)	Ахиллес	А)	составление древнейших из известных исторической науке письменных законов для Афин.
2)	Драконт	Б)	битва в Фермопильском ущелье
3)	Мильтиад	В)	Троянская война
4)	Леонид	Г)	создание статуи «Дискобол» («Метатель диска»)
5)	Мирон	Д)	создание научного трактата «История»
6)	Геродот	Е)	разгром персидского войска при Марафоне

Ответ:

185

1	2	3	4	5	6
<u>в +</u>	<u>а +</u>	<u>е +</u>	<u>д +</u>	<u>з +</u>	<u>г +</u>

**Задания 4-6**

**4.** Внимательно рассмотрите схему и выполните предложенные задания.

Выберите имя отца исторического деятеля, в период правления которого государство



занимало территории, обведённые коричневой линией. За выбор верного ответа – 3 балла.

- ① Александр Македонский
2. Марк Аврелий
3. Птолемей
4. Хаммурапи
5. Филипп II
6. Аристотель

05  
Ответ: 1

5. Установите соответствие между цифрами и названиями государств, образовавшихся после распада единой державы. Обратите внимание на то, что среди приведённых названий государств присутствуют лишние. По 3 балла за каждую верную пару. Максимум за задание – 9 баллов.

1. Урарту
2. Египетское царство
3. Македонское царство
4. Карфаген
5. Сирийское царство
6. Персидская империя

05  
Ответ: 2, 3, 5.


6. Выберите верные утверждения. За каждый правильный ответ – 2 балла. Если выбрано больше 6 утверждений, то 0 баллов. Максимум за задание – 8 баллов.




1. На схеме обозначен город, в котором, по легенде, началось строительство одноимённой башни до небес.
- ② В границах схемы присутствуют некоторые территории, входящие в состав современной России.
3. На схеме указаны названия древних славянских племён.
4. Согласно схеме, между Средиземным и Красным морями существовал пролив.
- ⑤ На схеме обозначен район Междуречья.
6. На схеме обозначен город, в котором располагалось одно из чудес света – гигантская статуя бога солнца Гелиоса.
- ~~7~~ Распад государства, обозначенного на схеме, произошёл до объединения Верхнего и Нижнего Египта.
- ⑧ На схеме обозначен город-государство, известный своими демократическими традициями.
9. Современником единого государства, обозначенного на схеме границей, был Сенека.
- ⑩ На схеме обозначен город, основанный греческими колонистами.

65  
Ответ: 2, 5, 10, 8

Задания 7-10

7. Выберите изображения, относящиеся к истории Древнего Рима.





За каждый правильный ответ – 2 балла. Если выбрано больше 5 утверждений, то 0 баллов. Максимум за задание – 8 баллов.

Ответ: 2, 4, 5, 7.

8. Выберите изображение, связанное с историей России. За верный ответ – 3 балла

Ответ: 6

9. Одному из событий, изображенному на картине выше, посвящено крылатое выражение «И ты, Брут?», означающее разочарование в близком человеке и

Всероссийская олимпиада школьников. История. 2023–2024 уч. г.  
предательство. Выберите изображение, связанное с этим выражением. **За верный ответ – 2 балла.**

25  
Ответ: 2 +

10. По легенде, этот правитель представлял себя великим актёром, поэтом и даже спортсменом. Его правление вошло в историю как период самодурства, беззакония и жестокости. По преданию, он даже уничтожил столицу собственного государства ради очередного зрелища и фона для собственного выступления. Выберите картину, которая связана с правлением этого исторического деятеля. **За верный ответ – 2 балла.**

05  
Ответ: 7

### Задание 11

Прочитайте фрагмент текста и ответьте на вопросы.

Для последнего приезда Карла были и другие причины. Дело в том, что римляне, которые подвергли папу Льва большому насилию, принудили его молить короля о защите. Поэтому, отправившись в Рим, чтобы восстановить положение дел в церкви, пришедшее в полный беспорядок, он задержался там на всю зиму. Именно тогда он принял имя императора и Августа, чего вначале совершенно не желал и утверждал, что если бы знал заранее о замысле папы, то в тот день не пошёл бы в церковь, несмотря на то, что это был один из главных праздников. И с великим терпением он переносил зависть римских императоров, негодовавших на то, что он принял это звание. Их упорство Карл победил своим великодушием, которым он, несомненно, их превосходил, посылая к ним частые посольства и в письмах называя их братьями.

В конце жизни, когда его тяготили болезнь и старость, Карл призвал к себе Людовика, короля Аквитании, единственного из сыновей Хильдегарды, оставшегося в живых. Собрав надлежащим образом со всего королевства знатнейших франков, Карл при всеобщем согласии поставил сына соправителем всего королевства и наследником императорского титула. Возложив на его голову корону, Карл приказал именовать Людовика императором и Августом. Это решение с одобрением было поддержано всеми присутствующими, ибо казалось, что оно было вдохновлено свыше на благо всего государства. И это деяние приумножило авторитет Карла [дома] и внушило огромный страх чужеземным народам.

11.1. С какой целью, согласно тексту, Карл прибыл в Рим? **За выбор верного ответа – 6 баллов.**

1. Карл планировал переждать в Риме зиму, прежде чем продолжит свой поход.
2. Карл стремился уравнивать свой статус с римскими императорами, дабы по праву общаться с ними как с братьями.
3. Целью поездки Карла в Рим была защита Папы Римского от творимых беззаконий.
4. Поездка состоялась ради коронации сына Людовика.
5. Карл посетил Рим ради восстановления разрушенных церквей.

05  
Ответ: 5

11.2. Выберите верные утверждения. **За каждый правильный ответ – 4 балла. Если выбрано больше 3 утверждений, то 0 баллов. Максимум за задание – 8 баллов.**

1. Согласно тексту, у Карла не было сыновей, кроме Людовика.
2. Согласно тексту, Карл изначально отказывался от императорской короны.
3. В тексте упоминаются правители Византии.
4. В тексте упоминается не менее двух титулов, названия которых восходят к Римской империи.
5. После смерти упомянутого в тексте императора прервалась правящая династия.
6. После коронации Людовика Карл отрёкся от престола.

05  
Ответ: 2, 4.

**11.3.** Выберите суждение, о верности которого можно безусловно говорить на основе текста. **За выбор верного ответа – 6 баллов.**

1. Все события, описанные в тексте, происходили зимой.
2. Внешняя политика Карла не ограничивалась только военными походами, но также подразумевала активные дипломатические связи с другими правителями.
3. Все сыновья Хильдегарды, кроме Людовика, погибли в военных походах.
4. Часть событий, описанных в тексте, произошла в день празднования Пасхи.
5. Передача императорской короны требовала обязательного утверждения франкской знатью и церковью.


65  
Ответ: 2



555

**ИСТОРИЯ**  
9 класс

2 Задание 1. Выберите пропущенный в ряду портрет. За выбор верного ответа – 2 балла.



Ответ: 2

2 **Задание 2.** Какие из перечисленных современных российских городов были основаны в XVIII в.? За каждый правильный ответ – 2 балла. Если выбрано больше 4 утверждений, то 0 баллов. Максимум за задание – 6 баллов.

1. Петропавловск-Камчатский
2. Якутск
3. Владикавказ
4. Томск
5. Екатеринбург
6. Симбирск

Ответ: 236

3 **Задание 3.** Выберите из списка события, произошедшие в году, предшествующем году, когда произошли события, описанные во фрагменте. За каждый правильный ответ – 2 балла. Если выбрано больше 4 утверждений, то 0 баллов. Максимум за задание – 6 баллов.

*...Париж и вся страна должны знать характер, смысл и цель происходящей революции... На Коммуне лежит обязанность выявить стремления и желания парижского населения и определить характер движения 18 марта... Чего добивается Париж? Признания и упрочения республики – единственной формы правления, совместимой с правами народа, с правильным и свободным развитием общества. Полной автономии коммун на всём протяжении Франции, обеспечивающей каждой из них всю совокупность её прав, а каждому французу – полное развитие его сил и способностей как человека, гражданина и работника.*

1. провозглашение Германской империи
2. отказ России от ряда условий Парижского мира
3. реформа городского самоуправления
4. отмена выкупных платежей в Сибири
5. судебная реформа
6. провозглашение Третьей Французской республики

Ответ:

**Задание 4.** Внимательно рассмотрите схему и выполните задания.

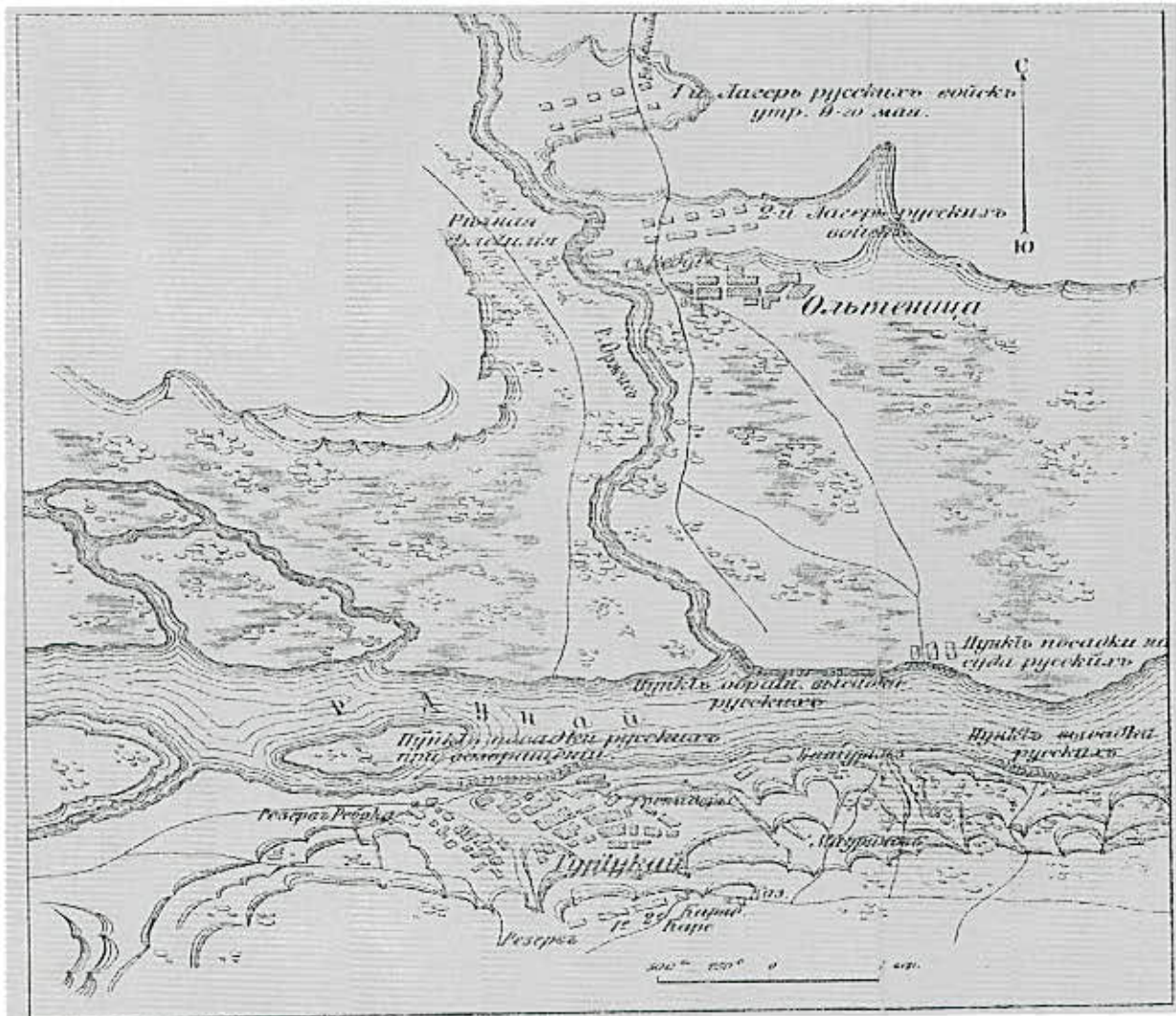


2 4.1. Выберите портрет правителя–предшественника российского монарха, в правление которого происходили события, отражённые на схеме. За выбор верного ответа – 2 балла.



Ответ: **1**

4.2. Выберите на схеме арабскую цифру, обозначающую место сражения, которому посвящена карта. За выбор верного ответа – 2 балла.



Ответ: **III**

4.3. Соотнесите названия государств с римскими цифрами, которыми обозначены их территории. За каждое верное сопоставление – 2 балла. Максимум за задание – 8 баллов.

I	Австрийские владения
II	Венецианская республика
III	Византийская империя

IV	Османская империя
	Прусское королевство
	Речь Посполитая
	Российская империя

Ответ:

I	—	II	+	III	—	IV	+
<i>Прусское королевство</i>		<i>Российская империя</i>		<i>Речь Посполитая</i>		<i>Османская империя</i>	

4.4. Выберите верные утверждения. За каждый правильный ответ – 2 балла. Если выбрано больше 7 утверждений, то 0 баллов. Максимум за задание – 10 баллов.

1. На схеме обозначена битва, событиям которой посвящена одна из картин И.К. Айвазовского.
2. Государство, обозначенное на схеме цифрой III, было союзником России в войне.
3. На схеме обозначен город, входивший в союз торговых городов Ганзу.
4. Одно из государств, обозначенных на схеме, было ликвидировано в том же десятилетии, когда завершилась война, события которой обозначены на схеме.
5. Одним из участников событий, отражённых на схеме, был А.В. Суворов.
6. В ходе войны, события которой отражены на схеме, русские войска прошли через территории государства, сохранявшего в войне нейтралитет.
7. Штриховкой на схеме обозначены территории, утраченные Россией по итогам войны, события которой отражены на схеме.
8. На схеме обозначены населённые пункты, где были заключены мирные договоры по итогам войны, события которой отражены на схеме, а также трёх последующих войн с тем же государством.
9. На схеме обозначена битва, в которой был смертельно ранен П.И. Багратион.
10. Война, события которой отражены на схеме, шла исключительно на территории противников России в этой войне.


Ответ: 10784

5. Заполните пустые ячейки таблицы, используя список пропущенных элементов. За выбор каждого верного ответа – 1 балл. Максимум за задание 7-8 баллов.

Фрагмент источника	Год событий, отражённых во фрагменте источника	Портрет правителя Франции – современник
И вдова Василиса Волохова в разпросе сказала, “что разболелся царевич в среду нынешнего году, майя в 12 день, падучею болезнью, и в пятницу, деи, ему маленько стало полегче, и царица, деи, его Марья взяла с собою к обедне и, от обедни пришетчи, велела ему на дворе погулять; а с царевичем были: она, Василиса, да кормилица Орина, да маленькие ребятки жилцы, да постелница Марья Самойлова; а играл царевич ножиком, и тут на царевича пришла опять та ж черная болезнь, и бросило его о землю... А и преж того, сего году в великое говенье та ж над ним болезнь была – падучей недуг, и он поколол сваю и мать свою, царицу Марью...	(А)	(Б)


Всероссийская олимпиада школьников. История. 2023–2024


уч. г.

(В)	1565 г.	
<p>Писали мы к вам наперёд сего, что по изволению и по милости всемогущаго в троице славимаго бога на Владимирское и на Московское государство и на все государства Российского царствия государем царём и великим князем всеа Русии обрали великого государя царя и великого князя Фёдора Ивановича всеа Русии племянника... и крест мы, бояре, и околничи, и всяких чинов люди ему целовали, что нам ему, государю, служитьи и прямити безо всякие хитрости и измены. А</p>	(Г)	(Д)
<p>ныне мы со всего собору послали к вам, на Двину, велели тебя, Никиту, да дьяка Путила Григорьева ко государеву царёву и великого князя всеа Русии крестному целованью привести... А целовав крест великому государю царю и великому князю Михаилу Федоровичю всеа Русии вам, архимандритом, и игуменом, и протопопу, и всему освященному собору, за государево цареву и великого князя всеа Русии здоровье бога молить, чтобы всемилостивый в троице славимый бог подал государю нашему царю и великому князю всеа Русии многолетнее здравье и на врагов победу и одоление и царство его мирно и безмятежно устроил.</p>		
(Е)	1649 г.	(Ж)

Варианты для вставки:

Варианты для В, Е.	Варианты для А, Г.	Варианты для Б, Д, Ж.
--------------------	--------------------	-----------------------

<p>Государь же им повеле ехати к себе с приставаы; приехаша же в Слободу генваря в 5 день... И многим молением молиша его со слезами о всём народе крестиянском, якоже преди изрекохом. Благочестивый же государь царь и великий князь всеа Руси, милосердуя о всём православном крестиянстве, для отца своего и богомолца Афонасия митрополита всеа Руси и для своих богомолцов архиепископов и епископов, бояром своим и приказным людям очи свои видети велел и архиепископом и епископом и всему освящённому собору милостивое своё жалованное слово рек. Челобитье же государь царь и великий князь архиепископов и епископов принял на том, чтобы ему своих изменников, которые измены ему, государю, делали и в чём ему, государю, были непослушны, на тех опала своя класти, а иных казнити и животы их и статки имати; а учинити ему на своём государстве себе опришнину, двор ему себе и на весь свой обиход учинити особой, а бояр и околничих и дворецкого и казначеев и дьяков и всяких приказных людей, да и дворян и детей боярских и столников и стряпчих и жилцов учинити себе особно;</p>	<p>1565 г.</p>	
---	----------------	---

<p>И в нынешнем году, октября с третьего числа, государь царь и великий князь всеа Руси самодержец, со отцем своим и з богомольцем святейшим Иосифом, патриархом Московским и всеа Руси, и с митрополиты, и со архиепископы и с епископом, также и с своими государевыми бояры, и с околничими, и з умными людьми того собрания слушал, и выборным людем, которые к тому общему совету выбраны на Москве и из городов чтено, чтобы то всё Уложение впредь было прочно и неподвижно. И указал государь то всё Уложение написать на список и закрепить тот список святейшему Иосифу, патриарху Московскому и всеа Руси, и митрополитом, и архиепископом, и епископу, и архимандритом и игуменом, и всему освящённому собору, и своим государевым бояром, и околничим, и думным людем, и выборным дворяном и детем боярским, и гостем, и торговым и посадыцким людем Московского государства и всех городов Росийского царства. А закрепя Уложение руками, указал государь списати в книгу, и закрепить тое книгу дьяком Гаврилу Левонтьеву, да Фёдору Грибоедову, а с тое книги для утверженья на Москве во все приказы и в города, напечатать многие книги, и всякия дела делать по тому Уложению.</p>	<p>1591 г.</p>	
---	----------------	---

После убийства Расстриги начали бояре думать, как бы известить всю землю, чтобы приехали из городов к Москве всякие люди, и как бы по совету выбрать на Московское государство государя, чтобы всем людям [угоден] был. Бог же не миловал [нас] по грехам нашим; ещё не к прекращению пролития христианской крови многие люди, умышляя, по совету князя, не только без совета со всей землёй, но и на Москве не ведали о том многие люди, на четвёртый день после убийства Расстриги приехали в город и возвели князя Василия на Лобное место, и нарекли его царём, и пошли с ним в град в соборную церковь Пречистой Богородицы. Он же начал говорить в соборной церкви [то], чего испокон веков в Московском государстве не бывало: целую де крест всей земле на том, что мне никакого зла ни против кого не сделать без [решения] собора: отец виноват, и против сына ничего не сделать; а будет сын виноват, а отец того не ведаёт, и отцу никакого зла не сотворить. А которые де были при царе Борисе обиды, и то никому не мстить. Бояре же и всякие люди говорили ему, чтобы он в том креста не целовал, потому что в Московском государстве такого не повелось. Он же никого не послушал и поцеловал крест на том на всём.

1613 г.



1656 г.



Ответ:

А	
Б	
В	
Г	1591 —
Д	
Е	
Ж	

8 **Задание 6.** Установите соответствие между приведёнными изображениями и историческими периодами (XVI–XVII вв., XVIII в. или 1-я половина XIX в.), реалии которых они отражают. За каждый правильный ответ – 2 балла. Если в каждом периоде выбрано больше 4 утверждений, то 0 баллов. Максимум за задание – 12 баллов.



1.





1.



2.



3.







4.



5.



6.

<p>7. </p>	<p>8. </p>
<p>9. </p>	<p>10. </p>

Ответ: 234710 +++

22 **Задание 8.** Установите соответствие между фрагментами исторических источников и их краткими характеристиками: к каждому фрагменту, обозначенному буквой, подберите по три соответствующие характеристики. За каждый правильный ответ – 2 балла. Если для каждого фрагмента выбрано больше 3 характеристик, то 0 баллов. Максимум за задание – 30 баллов.

Обратите внимание на то, что среди приведённых характеристик есть лишние.

**А.** С этого дня я стала вслушиваться в предложения, которые делались мне со времени смерти Императрицы. План состоял в том, чтобы схватить его в его комнате и заключить, как принцессу Анну и её детей. Он уехал в Ораниенбаум. Мы были уверены в большом числе капитанов гвардейских полков. Узел секрета находился в руках трёх братьев Орловых; Остен вспомнил, что видел старшего, следовавшего всюду за мною и делавшего тысячу безумств. Его страсть ко мне была всем известна, и всё им делалось с этой целью. Это – люди необычайно решительные и, служа в гвардии, очень любимые большинством солдат. Я очень многим обязана этим людям; весь Петербург тому свидетель.

Умы гвардейцев были подготовлены, и под конец в тайну было посвящено от 30 до 40 офицеров и около 10 000 солдат. Не нашлось ни одного предателя в течение трёх недель, так как было четыре отдельных партии, начальники которых созывались на совещания, а главная тайна находилась в руках этих троих братьев; Панин хотел, чтоб это совершилось в пользу

ВСЕРОССИЙСКАЯ ОЛИМПИАДА ШКОЛЬНИКОВ (ШКОЛЬНЫЙ ЭТАП)  
2023-2024 УЧЕБНЫЙ ГОД

моего сына, но они ни за что не хотели согласиться на это.

**Б.** В лето 6683 убит был великий князь июня месяца в 28-й день, в канун праздника святых апостолов. И была тогда суббота.

Итак, состоялся в пятницу на обедне коварный совет злодеев преступных. И был у князя Яким, слуга, которому он доверял. Узнав от кого-то, что брата его велел князь казнить, возбудился он по дьявольскому наущению и примчался с криками к друзьям своим, злым сообщникам... и стал говорить:

«Сегодня его казнил, а завтра – нас, так промыслим о князе этом!».

Лишь настала ночь, прибежав и схвативши оружие, пошли на князя, как дикие звери, но, пока они шли к его спальне, пронзил их и страх, и трепет. И бежали с крыльца, спустясь в погреба, упились вином. И так, упившись вином, взошли они на крыльцо.

Когда, схватив оружие, как звери свирепые, приблизились они к спальне, где блаженный князь возлежал, позвал один, став у дверей: «Господин мой! Господин мой...» И князь отозвался: «Кто здесь?» – тот же сказал:

«Прокопий...», но в сомненье князь произнёс: «О, малый, ты не Прокопий!» Те же, подскочив к дверям и поняв, что здесь князь, начали бить в двери и силой выломали их. И ворвались двое убийц, и набросились на него, и князь швырнул одного под себя, а другие, решив, что повержен князь, впотьмах поразили своего; но после, разглядев князя, схватились с ним, ибо он был силён. И рубили его мечами и саблями, и раны копьём ему нанесли...

**В.** Указ его императорского величества самодержца всероссийского из Правительствующего сената.

По именному его императорского величества высочайшему указу, данному Правительствующему сенату минувшего февраля в 20-й день за собственноручным его величества подписанием, в котором изображено:

Действительный тайный советник граф Сергей Румянцев, изъявив желание некоторым из крепостных его крестьян при увольнении их утвердить в собственность продажей или на других добровольных условиях участки из принадлежащих ему земель, испрашивал, чтоб условия таковые, добровольно заключаемые, имели то же законное действие и силу, какое прочим крепостным обязательствам присвоено, и чтоб крестьяне, таким образом уволенные, могли оставаться в состоянии свободных земледельцев, не обязываясь входить в другой род жизни.

Находя, с одной стороны, что по силе существующих законов, как то: по манифесту и указу годов, увольнение крестьян и владение уволенным землёю в собственность дозволено, а с другой, что утверждение таковое земель в собственность может во многих случаях представить помещикам разные выгоды и иметь полезное действие на ободрение земледелия и других частей государственного хозяйства, мы считаем справедливым и полезным как ему, графу Румянцеву, так и всем, кто из помещиков последовать примеру его пожелает, распоряжение таковое дозволить; а дабы имело оно законную свою силу, находим нужным постановить...

**Г.** И в Розряде, дьяки думной Фёдор Лихачёв да Михаиле Данилов мужика Оношку расспрашивали. Какова он отца сын, и ныне отец его жив ли, и как его звали, и где живёт? Или отец его умер и сколь давно, и где умер? И мать его Оношкова жива ли и чья дочь, и где живёт? И почему он сказывает себя Ивановым сыном Басманова? И кто его Ивановым сыном Басманова назватца научил, и для какова воровства, и кто именем? И он бы про то сказал вправду.

И мужик Оношка в роспросе сказал. Какова он отца сын и как отца его звали, тово не упомнит. А мать де его звали Агафьею Иванова дочь. А была де мать его в Печерниках замужем за Евсейком Офонасьевым сыном, прозвища Татарка. А был де он, Евсейко, в Печерниках на приказе тому лет з 20. А какой он человек и от ково был на приказе, тово он не ведает. А сказывала де ему, Оношке, мать его, что он, Оношка, Иванов сын Басманова, и отца де его, Ивана, убили разбойники Хлопко с товарищи. А про себя де ему сказывала, что она Иванова дочь Салтыкова. А как мать его в Печерники сошла и кто её за тово Евсейка замуж

ВСЕРОССИЙСКАЯ ОЛИМПИАДА ШКОЛЬНИКОВ (ШКОЛЬНЫЙ ЭТАП)  
2023-2024 УЧЕБНЫЙ ГОД

давал, тово он от матери своей не слышал. И вотчима де ево Евсейка Татарку, как при царе Васильи имал Печерники Прокофей Ляпунов, взяли в языцех и отвели в Переславль Рязанской...

Д. Шакловитый был так тесно связан с Голицыным: участь обоих должна была решиться вместе. В тот же день, как привезли Шакловитого, 7 сентября, около 5 часов пополудни явился к Троице и князь В.В. Голицын со своими приближёнными, известными своєю военною и приказною деятельностью, окольников Леонтием Неплюевым, Венедиктом Змеевым, думным дворянином Григорьем Косоковым и думным дьяком Емельяном Украинцевым. Их не пустили в монастырские ворота, велели стать на посаде и не съезжать без указа. Вечером Гордон навестил Голицына и нашёл его в раздумье. Вечером 9 числа позвали Голицына с сыном Алексеем во дворец. Когда они поднялись на лестницу, навстречу вышел думный дьяк и прочел им указ, что они лишаются чести боярства, ссылаются с женами и детьми в Каргополь, имение отписывается на государя, за то что, во-первых, они сестре великих государей о всяких делах докладывали мимо великих государей и писали её с великими государями обще и в книгах и на деньгах обще ж с великими государями её печатать велели, без указа их великих государей. Во-вторых, быв послан в Крымские юрты, князь Василий Голицын, пришед к Перекопу, промыслу никакого не чинил и отступил, каковым нерадением царской казне учинил великие убытки государству разорение, а людям тягость.

- 1. Один из упомянутых в тексте исторических деятелей принимал активное участие в отмене местничества.
- 2. Источник, фрагмент которого приведён, относится к произведениям древнерусской литературы.
- 3. Источник, фрагмент которого приведён, относится к источникам личного происхождения.
- ~ 4. В тексте упоминается восстание, причинами которого, помимо прочего, был неурожай и сильный голод. /
- 5. Принятие мер, упомянутых в источнике, признаётся, помимо прочего, также экономически целесообразным.
- 6. Автор источника невысоко отзывается о личных моральных качествах участников заговора.
- 7. Согласно мнению автора, деятельность потусторонних тёмных сил является одной из причин произошедших событий.
- 8. Согласно тексту источника, недозволительным является переход крестьян из одного состояния в другое без установленного на то разрешения помещика.
- 9. Источник, фрагмент которого приведён, относится к периодической печати.
- o 10. Источник, фрагмент которого приведён, относится к позднейшим историческим исследованиям – историографии.
- 11. В период событий, описанных в тексте, скончался Иван V.
- 12. Император, о свержении которого говорится в тексте, – Пётр III.
- o 13. Источник, фрагмент которого приведён, относится к делопроизводственным.
- 14. В тексте косвенно упоминается будущий император Александр I.
- 15. Источник, фрагмент которого приведён, является законодательным актом.
- 16. Согласно тексту, одна из причин опалы упомянутого в тексте деятеля – превышение должностных полномочий.
- 17. В тексте источника упоминается название высшего государственного органа власти Российской империи.
- 18. В тексте упоминается один из организаторов первого земского ополчения.
- 19. Автор источника, говоря о подготовке заговора, ссылается на предшествовавший опыт.
- 20. Автор источника описывает угрожающие знамения накануне событий, описанных в источнике.

ВСЕРОССИЙСКАЯ ОЛИМПИАДА ШКОЛЬНИКОВ (ШКОЛЬНЫЙ ЭТАП)  
2023-2024 УЧЕБНЫЙ ГОД

Ответ:

А <span style="color:red">+++</span>			Б <span style="color:red">+ +</span>			В <span style="color:red">+ +</span>			Г <span style="color:red">+</span>			Д <span style="color:red">+++</span>		
3	12	19	6	7	20	8	14	15	2	18	11	1	16	10

6 **Задание 9.** Установите соответствие между приведёнными высказываниями историков и формулировками проблем, которые должны быть рассмотрены при написании исторического эссе (сочинения) на основе этих высказываний. Формулировка проблемы должна полно и корректно отражать ключевые аспекты цитаты. **По 2 балла за каждое верное соответствие. Максимум за задание – 10 баллов.**

Обратите внимание на то, что среди формулировок проблем есть лишние.

*Высказывания историков*

А) «Христианизация Руси и родство правящего рода с византийским двором ввели Русь в семью европейских народов на совершенно равных основаниях». (Д.С. Лихачёв)

Б) «Жестоко расправляясь со своими противниками из числа других русских князей, не брезгуя для этого ордынской помощью, Калита добился значительного усиления могущества Московского княжества». (Л.В. Черепнин)

В) «В политических условиях первой трети XVI века для Василия III задачей

№ 1 становилось не присоединение новых земель к Москве (она была главной для Ивана III), а укрепление великокняжеской власти». (А.А. Зимин)

Г) «Законодательные акты Екатерины надолго пережили её и вместе с основными законами Петра Великого стали на долгие десятилетия основой российской государственности». (Е.В. Анисимов)

Д) «Александр I... хотя и любил поговорить о необходимости законности, свобод, даже представительного правления, на практике проводил ту же линию укрепления феодально-абсолютистских порядков, что и его предшественники». (В.А. Фёдоров)

*Формулировки проблем*

- 1) Оценка процесса христианизации на Руси
- 2) Политические приоритеты московских князей в контексте политической ситуации второй половины XV – первой половины XVI вв.
- 3) Характер феодальных порядков в годы правления Александра I
- 4) Роль ордынских войск в процессе усиления Московского княжества
- 5) Место Москвы в системе великокняжеской власти в XVI в.
- 6) Влияние законодательства Петра I и Екатерины II на российскую государственность
- 7) Влияние христианизации и династической политики русских князей на положение Руси на международной арене
- 8) Политические идеи Александра I и их реализация в политическом курсе
- 9) Характеристика правового развития Российского государства в XIX в.
- 10) Влияние политических методов Ивана Калиты на развитие Московского княжества

Ответ:

А	Б	В	Г	Д
7 <span style="color:red">+</span>	10 <span style="color:red">+</span>	9 <span style="color:red">—</span>	6 <span style="color:red">+</span>	3 <span style="color:red">—</span>

Шифр 7-83  
максимальное количество баллов – 100  
время выполнения: 90 мин

56

## ИСТОРИЯ

7 класс

### 6 Задание 1

Выберите из списка деятелей культуры и науки, живших в историческую эпоху, в которой было создано приведённое произведение искусства. За каждый правильный ответ – 2 балла. Если



выбрано больше 4 утверждений, то 0 баллов. Максимум за задание – 6 баллов.

1. Микеланджело Буонарроти
2. Аристотель
3. Никола Тесла
4. Рафаэль Санти
5. Сандро Боттичелли
6. Сенека

Ответ: 1, 4, 5, 6

1 Задание 2. Какие из указанных терминов связаны с военным делом? За каждый правильный ответ – 2 балла. Если выбрано больше 4 утверждений, то 0 баллов. Максимум за задание – 6 баллов.

1. Финифть
2. Бердыш
3. Тюфяк
4. Шадуф
5. Кистень
6. Кокошник

Ответ: 1, 2, 3, 4

2 Задание 3 Выберите события всемирной истории, произошедшие в той же половине века, что и событие, описанное в тексте. За каждый правильный ответ – 2 балла. Если выбрано больше 4 утверждений, то 0 баллов. Максимум за задание – 6 баллов.

Беззаконный же Шевкал, разоритель христианства, пошёл на Русь со многими воинами, и пришёл в Тверь, и прогнал князя великого со двора его, а сам остановился на дворе великого князя, полный гордыни. И начал великое гонение на христиан: насилие, и грабёж, и избивание,

и поругание. Народ же, всё время оскорбляемый гордыней поганых, много раз жаловался великому князю, прося у него защиты; он же, видя озлобление людей своих и не в силах их защитить, велел им терпеть. Тверичи же не хотели терпеть, и кликнули тверичи, и начали избивать врагов, где кого застали, пока не убили и самого Шевкала и всех подряд.

1. битва на Косовом поле
2. образование Генеральных штатов
3. начало Авиньонского пленения пап
4. Жакерия во Франции
5. ликвидация Ордена тамплиеров
6. Второй крестовый поход

Ответ: 1, 2, 4, 6

#### Задание 4

Прочитайте предложения и выберите те, в которых содержатся ОШИБКИ относительно фрагментов, выделенных курсивом. За каждый правильный ответ – 2 балла. Если выбрано больше 6 утверждений, то 0 баллов. Максимум за задание – 10 баллов.

1. Одним из старейших блюд русской кухни принято считать **ендову**.
2. О древнерусской кухне историки знают благодаря **древнейшему русскому летописному своду – «Повести временных лет»**.
3. Автором «Повести временных» лет принято считать **летописца Нестора**.
4. Созданное в стенах **Троице-Сергиевой лавры** произведение отразило в себе историю, уклад и обычаи населения Руси.
5. Другим древнейшим блюдом на Руси принято считать кисель, упомянутый в связи с **осадившими в 997 году Белгород половцами**.
6. Согласно легенде, воспользовавшись отсутствием **князя Владимира**, они сумели осадить город.
7. Долго длилась безуспешная осада, и начался сильнейший голод. Тогда **белгородский посадник**, собрав горожан, предложил пойти на хитрость – приготовить кисель и показать его **половецким послам**, дабы убедить их в богатстве запасов в городе. Поверили враги в обман и сняли осаду.
8. Хотя мы и не имеем полного представления о рецептах, однако мы можем представить блюда древнерусской кухни, проанализировав наиболее распространённые и выращиваемые культуры: **овёс, пшеница, ячмень, редька, картофель, помидоры и огурцы**.
9. Важное место в древнерусской кухне занимала рыба, ведь многие города стояли на берегах рек. Так, жители **Киева** имели возможность **рыбачить в Днепре, Владимира – на Волхове, Новгорода – на Клязьме**.
10. Распространены были и заморские товары, поставлявшиеся **по пути из варяг в греки**.

Ответ:

Неверно	<u>1, 2, 6, 8, 9</u>
---------	----------------------







#### Задания 5-6

Рассмотрите изображение и выполните задания.



2 5. Выберите изображения памятников архитектуры, связанных с именем сына того князя, которому посвящена скульптура. За каждый правильный ответ – 2 балла. Если выбрано больше 4 утверждений, то 0 баллов. Максимум за задание – 6 балла.

Ответ: 2, 3, 4, 6

1. 	2. 
3. 	4. 
5. 	6. 



- 4 6. Прочитайте фрагменты биографий древнерусских князей. Фрагменты посвящены правлению изображённого на скульптуре князя, его отцу и сыну. Определите, какие фрагменты к кому относятся. Обратите внимание на то, что среди них есть лишние. **За каждый верный выбор – 2 балла. Максимум за задание – 16 баллов.**

А. А скончался благоверный князь Михаил, которого звали Святополком, привезли его в ладье в Киев, и привели в надлежащий вид тело его, и возложили на сани. И плакали по нему бояре и дружина его вся; отпев над ним полагающиеся песни, похоронили в церкви святого Михаила, которую он сам построил. После того на десятый день устроили киевляне совет, послали к \_\_\_\_\_, говоря: «Пойди, князь, на стол отчий и дедов». Услышав это, много плакал и не пошёл, горюя по брате. Киевляне же разграбили двор Путяты тысяцкого, разграбили их имущество. И послали вновь киевляне к \_\_\_\_\_, говоря:

«Пойди, князь, в Киев; если же не пойдёшь, то знай, что много зла произойдёт». Услышав это, пошёл в Киев. Сел он на столе отца своего и дедов своих, и все люди были рады, и мятеж утих.

Б. Создал же он себе городок каменный столь же далеко от Владимира, как Вышгород от Киева. Благоверный и христоролюбивый князь с юных лет Христавозлюбил и пречистую его Мать; знанье же отрипнув и рассужденья и, как хоромы чудесные, душу украсив всеми благими желаньями, уподобился царю Соломону, когда, храм Господу Богу и церковь преславную Рождества святой Богородицы посреди Боголюбова в камне создав, разукрасил её больше всех церквей: подобна она той Святой Святых, которую царь Соломон премудрый создал; так и этот князь создал церковь такую на память о себе, и украсил её драгоценными иконами, золотом и дорогими камнями, и жемчугом крупным бесценным, и снабдил украшениями разными, и украсил плитами из яшмы и всяким узорным литьём, – блеском осыпав её так, что больно смотреть, ибо вся она в золоте стала.

В. Вспенилось море в полуночи, в тучах движутся вихри. Князю Бог путь указывает из земли Половецкой на землю Русскую, к отчему золотому престолу. Погасла вечерняя заря, спит и не спит: мыслию поля мерит от великого Дона до малого Донца. В полночь свистнул Овлур коня за рекой – велит князю разуметь: не быть князю! Кликнул, стукнула земля, зашумела трава, задвигались вежи половецкие. А князь горностаем прыгнул в тростники, белым гоголем – на воду, вскочил на борзого коня, соскочил с него босым волком, и помчался к лугу Донца, и полетел соколом под облаками, избивая гусей и лебедей к завтраку, и к обеду, и к ужину. Когда соколом полетел, то Овлур волком побежал, отряхивая с себя студёную росу: загнали они своих быстрых коней.

Г. Я, худой, дедом своим Ярославом, благословенным, славным, наречённый в крещении Василием, отцом возлюбленным и матерью своею... и христианских ради людей, ибо сколько их соблюл по милости своей и по отцовской молитве от всех бед! Сидя на санях, помыслил я в душе своей и воздал хвалу Богу, Который меня до этих дней, грешного, сохранил. Дети мои или иной кто, слушая эту грамотку, не посмейтесь, но кому из детей моих она будет лоба, пусть примет её в сердце своё и не станет лениться, а будет трудиться.

Ибо встретили меня послы от братьев моих на Волге и сказали: «Поспеш к нам, и выгоним Ростиславичей, и волость их отнимем; если же не пойдёшь с нами, то мы – сами по себе будем, а ты – сам по себе». И ответил я: «Хоть вы гневаетесь, не могу я ни с вами пойти, ни крестоцелование преступить».

Д. Пошёл \_\_\_\_\_ воевать в Новгородскую волость и, придя, взял Новый Торги Мьсту всю взял. А к Святославу послал \_\_\_\_\_, повелел ему воевать Смоленскую волость. И Святослав пошёл и захватил голядь вверх по Протве; и дружина Святослава набрала так пленных. И прислал к нему со словами:

«Приходи ко мне, брат, в Москву». Святослав поехал к нему с сыном своим Олегом и небольшою дружиною и взял с собою Владимира Святославича. А Олег поехал вперёд к \_\_\_\_\_ и подарил ему барса. Вслед за ним приехал его отец Святослав, и они сердечно встретились с поцелуями в пятницу, в день похвалы святой Богородицы, и были веселы. На другой же день повелел устроить большой пир и оказал князьям великую честь.

Е. Князь же великий, взяв с собою брата своего, князя Владимира Андреевича, и всех князей русских, поехал к живоначальной Троице на поклон к отцу своему духовному, преподобному

старцу Сергию, благословение получить от святой той обители. И упросил его преподобный игумен Сергей, чтобы прослушал он святую литургию, потому что был тогда день воскресный и чтилась память святых мучеников Флора и Лавра. По окончании же литургии просил святой Сергей со всею братьею великого князя, чтобы откушал хлеба в доме живоначальной Троицы, в обители его. Великий же князь был в замешательстве, ибо пришли к нему вестники, что уже приближаются поганые татары, и просил он преподобного, чтобы его отпустил. И ответил ему преподобный старец: «Это твоё промедление двойным для тебя поспешеньем обернётся. Ибо не сейчас ещё, господин мой, смертный венец носить тебе, но через несколько лет, а для многих других теперь уж венцы плетутся».

**Ж.** Сие происшествие должноствовало оскорбить \_\_\_: у него были и другие враги. Изяслав Давидович с завистию смотрел на престол Киевский; искал друзей; примирился с Ростиславом и для того оставил без мести неверность своего племянника, Святослава Владимировича, который, вдруг заняв на Десне города Черниговские, передался к Смоленскому Князю. Судьба отвратила кровопролитие: \_\_, пирав у Боярина своего, Петрила, ночью занемог и чрез пять дней умер. Сведая о том, Изяслав Давидович пролил слёзы и, воздев руки на небо, сказал: «Благодарю тебя, Господи, что ты рассудил меня с ним внезапную смертью, а не кровопролитием!» Георгий властолюбивый, но беспечный знаменит в нашей истории гражданским образованием восточного края древней России.

**З.** Когда, схватив оружие, как звери свирепые, приблизились они к спальне, где блаженный князь возлежал, позвал один, став у дверей: «Господин мой! Господин мой...» И князь отозвался: «Кто здесь?» – тот же сказал:

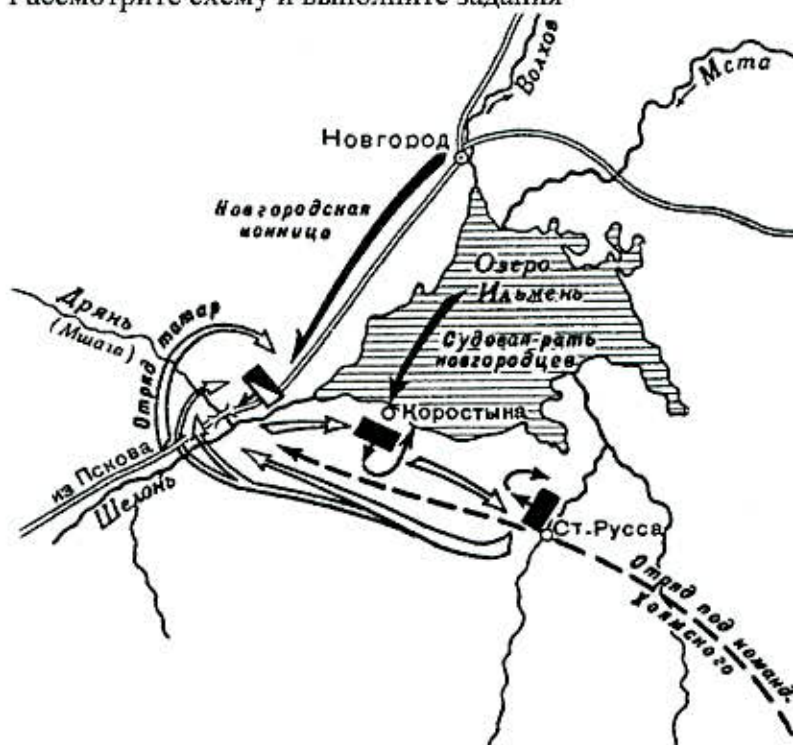
«Прокопий...», но в сомненье князь произнёс: «О, малый, ты не Прокопий!» Те же, подскочив к дверям и поняв, что здесь князь, начали бить в двери и силой выломали их. Блаженный же вскочил, хотел схватить меч, но не было тут меча, ибо в тот день взял его Анбал-ключник, а был его меч мечом святого Бориса. И ворвались двое убийц, и набросились на него, и князь швырнул одного под себя, а другие, решив, что повержен князь, впотьмах поразил своего; но после, разглядев князя, схватились с ним, ибо он был силен.

**Ответ:**

Князь, которому поставлен памятник	Отец князя	Сын князя	Лишние фрагменты
А —	В, Д —	Б +	г, е, з, х +

**Задание 7**

Рассмотрите схему и выполните задания



2 7.1. Выберите все верные суждения. За каждый правильный ответ – 2 балла. Если выбрано больше 4 утверждений, то 0 баллов. Максимум за задание – 6 баллов.

1. События, обозначенные на схеме, произошли в период правления Ивана III.

2. Событие, изображённое на схеме, вошло в историю под названием

«Ледовое побоище».

3. В событиях, обозначенных на схеме, также принимал участие флот.


4. Проигравшая сторона утратила независимость в том же десятилетии, когда произошли отражённые на схеме события.

5. События, обозначенные на схеме, произошли вскоре после разгрома Золотой Орды Тимуром.

6. Участником событий, обозначенных на схеме, был Александр Пересвет.

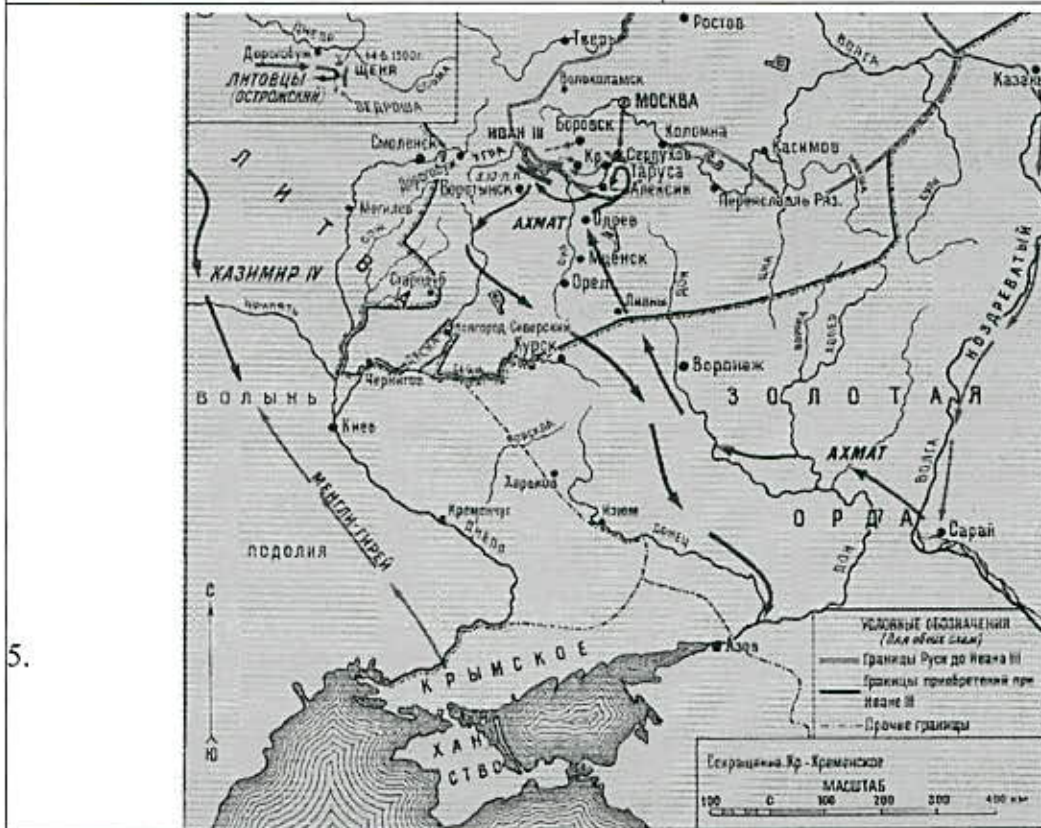
Ответ: 2, 5, 6, 1

2 7.2 Выберите изображение, сюжетно связанное с приведённой схемой. За выбор верного ответа – 2 балла.



Ответ: 2

7.3 Выберите из представленных изображений те, которые отражают события, произошедшие в том же веке, что и события на основной схеме. За каждый правильный ответ – 2 балла. Если выбрано больше 4 утверждений, то 0 баллов. Максимум за задание – 6 баллов.





Ответ: 5, 1, 9, 3

### Задание 8

Перед вами фрагмент исторического источника.

Святополк же, сев на княжение в Киеве после смерти отца, призвал к себе киевлян и, щедро одарив их, отпустил. К Борису же послал такую весть: «Брат, хочу жить с тобой в любви и к полученному от отца владению добавлю ещё». Но не было правды в его словах.

Когда увидел дьявол, исконный враг всего доброго в людях, что святой Борис всю надежду свою возложил на Бога, то стал строить козни и, как в древние времена Каина, замышлявшего братоубийство, уловил Святополка. Угадал он помыслы Святополка, поистине второго Каина: ведь хотел перебить он всех наследников отца своего, чтобы одному захватить всю власть.

Блаженный же Борис возвратился и раскинул свой стан на Альте. И сказала ему дружина: «Пойди, сядь в Киеве на отчий княжеский стол – ведь все воины твоих руках». Он же им отвечал: «Не могу я поднять руку на брата своего, к тому же ещё и старшего, которого чту я как отца». Услышав это, воины разошлись, остался он только с отроками своими.

Посланные же Святополком пришли на Альту ночью, и подошли близко, и слышали голос блаженного стратотерпца, поющего на заутреню Псалтырь. И получил он уже весть о готовящемся убиении его.

Перебили и отроков многих. Блаженного же Бориса, обернув в шатёр, положили на телегу и повезли. И когда ехали бором, начал приподнимать он святую голову свою. Узнав об этом, Святополк послал двух варягов, и те пронзили Бориса мечом в

ВСЕРОССИЙСКАЯ ОЛИМПИАДА ШКОЛЬНИКОВ (ШКОЛЬНЫЙ ЭТАП)  
2023-2024 УЧЕБНЫЙ ГОД

сердце.

И не остановился на этом убийстве: окаянный Святополк, но в неистовстве своём стал готовиться на большее преступление. И тогда вошёл в сердце его сатана, начал подстрекать на ещё большие злодеяния и новые убийства. Так говорил в душе своей окаянной: «Что сделаю? Если остановлюсь на этом убийстве, то две участи ожидают меня: когда узнают о случившемся братьями, то, подстерёгши меня, воздадут мне горше содеянного мною. А если и не так, то изгонят меня и лишусь престола отца моего, и сожаление по утраченной земле моей изложет меня, и поношения поносящих обрушатся на меня, и княжение моё захватит другой, и в жилищах моих не останется живой души.

И, замыслив это, злой дьявола сообщник послал за блаженным Глебом, говоря: «Приходи не медля. Отец зовёт тебя, тяжко болен он».

Глеб быстро собрался, сел на коня и отправился с небольшой дружиной. И когда пришли на Волгу, в поле оступился под ним конь в яме и повредил слегка ногу. А в это время пришла весть от Предславы к Ярославу о смерти отца. И Ярослав прислал к Глебу, говоря: «Не ходи, брат! Отец твой умер, а брат твой убит Святополком».

И, услышав это, блаженный возопил с плачем горьким и сердечной печалью, и так говорил: «О, увы мне, Господи! Вдвойне плачу и стенаю, вдвойне сетую и тужу. Увы мне, увы мне! Плачу горько по отце, а ещё горше плачу и горюю по тебе, брати господин мой, Борис. Как пронзён был, как без жалости убит, как не от врага, но от своего брата смерть воспринял? Увы мне! Лучше бы мне умереть с тобою, нежели одному и осиротевшему без тебя жить на этом свете».

И когда он так стенал и плакал, орошая слезами землю и призывая Бога с частыми вздохами, внезапно появились посланные Святополком злые слуги его, безжалостные кровопийцы, лютые братоненавистники с душою свирепых зверей.

Тогда окаянный Горясер приказал резать его без промедления. Повар же Глебов, по имени Торчин, взял нож и, схватив блаженного, заклал его, как агнца непорочного и невинного.

**8.1.** Прочитайте текст и выберите все соответствующие ему краткие характеристики. За каждый правильный ответ – 4 балла. Если выбрано больше 8 утверждений, то 0 баллов. Максимум за задание – 20 баллов.

- 1. В тексте упоминается имя ветхозаветного персонажа.
- 2. Согласно тексту источника, один из братьев погиб из-за несчастного случая.
- 3. Согласно приведённому тексту, всё войско Бориса оставило его передгибелью.
4. В тексте упомянута река, около которой произошло последнее сражение междоусобной войны, события которой отражены в тексте.
- 5. Упомянутый в тексте отец – Ярослав Мудрый.
- 6. Согласно тексту источника, Ярослав отказался помочь брату защититься от Святополка.
7. В тексте упоминается термин, означающий представителя чёрного духовенства.
8. В тексте упоминается термин, которым обозначались дружинники иностранного, как правило скандинавского, происхождения.
- 9. Один из упомянутых участников событий, описанных в тексте, получил прозвище Невский.
10. Все лица, чьи имена упомянуты в тексте, являются родственниками.
11. Перед гибелью одного из братьев произошло угрожающее предзнаменование.
12. В тексте упоминаются имена двух первых русских святых.

Ответ: 3, 4, 9, 10, 12, 3, 5, 1

4 8.2. Как в тексте объясняется отказ Бориса от Киевского стола? За выбор верного ответа – 4 балла.

1. Киевский стол должен был отойти к Святополку, так как он приходится Борису старшим братом.
2. Святополк был любим отцом больше всех остальных сыновей.
3. Брат его, Глеб, погиб, а потому не хотел он воспринять престоли продолжать войну с братьями.
4. Ярослав предупредил его, что отец умер и поход в Киев может быть опасен.
5. Борис рассчитывал приумножить собственные владения за счёт тех, что обещал ему Святополк.

Ответ: 1

4 8.3. Как автор объясняет причины убийства братьев Святополком? За выбор верного ответа – 4 балла.

1. Святополк хотел устранить конкурентов на Киевский стол.
2. Братья повели отцовскую дружину на Святополка.
3. Дьявол хотел разорить христианскую веру и для того послал Святополка.
4. Между братьями существовала личная неприязнь.
5. Киевляне отказались признать Святополка князем.

Ответ: 1

0 8.4. Как автор объясняет отказ Глеба от войны против Святополка? За выбор верного ответа – 4 балла.

1. Глеб признавал Святополка за старшего брата.
2. Глеб отказывался выступить против брата, пока оплакивает отца.
3. Глеб не поверил посланию Ярослава.
4. Глеб надеялся собрать всех воинов отца и только тогда пойти против Святополка.
5. Автор не приводит причин, побудивших Глеба отказаться от войны со Святополком.

Ответ: 2

4 8.5. Из приведённых ниже фрагментов выберите тот, который описывает событие(-я), произошедшие в том же веке, что и события из текста, приведённого выше. За выбор верного ответа – 4 балла.

- А. Сказала дружина Игорю: «Отроки Свенельда изоделись оружием и одеждой, а мы наги. Пойдём, князь, с нами за данью, и себе добудешь, и нам». И послушал их Игорь – пошёл к древлянам за данью и прибавил к прежней дани новую, и творили насилие над ними мужи его. Взяв дань, пошёл он в свой город. Когда же шёл он назад, – поразмыслив, сказал своей дружине: «Идите вы с данью домой, а я возвращусь и похожу ещё». И отпустил дружину свою домой, а сам с малой частью дружины вернулся, желая большего богатства. Древляне же, услышав, что идёт снова, держали совет с князем своим Малом и сказали: «Если повадится волк к овцам, то выносит всё стадо, пока не убьют его; так и этот: если не убьём его, то всех нас погубит». И послали к нему, говоря: «Зачем идёшь опять? Забрал уже всю дань». И не послушал их Игорь; и древляне, выйдя навстречу ему из города Искоростеня, убили Игоря и дружинников его, так как было их мало. И погребён был Игорь, и есть могила его у города Искоростеня в Деревской земле и до сего времени.
- Б. Пришли Святополк, и Владимир, и Давыд Игоревич, и Василько Ростиславич, и

ВСЕРОССИЙСКАЯ ОЛИМПИАДА ШКОЛЬНИКОВ (ШКОЛЬНЫЙ ЭТАП)  
2023-2024 УЧЕБНЫЙ ГОД

Давыд Святославич, и брат его Олег, и собрались на совет в Любече для установления мира, и говорили друг другу: «Зачем губим Русскую землю, сами между собой устраивая распри? А половцы землю нашу несут розно и рады, что между нами идут войны. Да отныне объединимся единым сердцем и будем блюсти Русскую землю, и пусть каждый владеет отчиной своей: Святополк – Киевом, Изяславовой отчиной, Владимир – Всеволодовой, Давыд и Олег и Ярослав – Святославовой, и те, кому Всеволод роздал города: Давыду – Владимир, Ростиславичам же: Володарю – Перемышль, Васильку – Теребовль». И на том целовали крест: «Если отныне кто на кого пойдёт, против того будем мы все и крест честной». Сказали все: «Да будет против того крест честной и вся земля Русская». И, попрощавшись, пошли восвояси.

— В. Изгнали варяг за море, и не дали им дани, и начали сами собой владеть, и не было среди них правды, и встал род на род, и была у них усобица, и стали воевать друг с другом. И сказали себе: «Поищем себе князя, который бы владел нами и судил по праву». И пошли за море к варягам, к руси. Те варяги назывались русью, как другие называются шведы, а иные норманны и англы, а ещё иные готландцы, – вот так и эти. Сказали руси чудь, словене, кривичи и весь: «Земля наша велика и обильна, а порядка в ней нет. Приходите княжить и владеть нами». И избралось трое братьев со своими родами, и взяли с собой всю русь. И от тех варягов прозвалась Русская земля. Новгородцы же – те люди от варяжского рода, а прежде были словене. Через два же года умерли Синеус и брат его Трувор. И принял всю власть один Рюрик.

— Г. Попущением божьим, за грехи наши, по наваждению дьявола поднялся князь восточной страны, по имени Мамай, язычник верой, идолопоклонник и иконоборец, злой преследователь христиан: И начал подстрекать его дьявол, и вошло в сердце его искушение против мира христианского, и подучил его враг, как разорить христианскую веру и осквернить святые церкви, потому что всех христиан захотел покорить себе, чтобы не славилось имя господне среди верных богу. Господь же наш, бог, царь и творец всего сущего, что пожелает, то и исполнит.

Тот же безбожный Мамай стал похваляться и, позавидовав второму Юлиану-отступнику, царю Батью, начал расспрашивать старых татар, как царь Батый покорил Русскую землю. И стали ему сказывать старые татары, как покорил Русскую землю царь Батый, как взял Киев и Владимир, и всю Русь, славянскую землю, и великого князя Юрия Дмитриевича убил, и многих православных князей перебил, а святые церкви осквернил и многие монастыри и села пожёг, а во Владимире соборную церковь златоверхую пограбил. И так как был ослеплён он умом, то того не постиг, что, как господа угодно, так и будет...

Ответ: А Б